



خیاط های مردانه و زنانه دوز

عنوان شغل:

خیاطی مردانه

کد شغل: ۷۵۳۱۱۲۰۰۰۰

نمونه سؤالات شایستگی:

برش و دوخت کت مردانه

کد شایستگی: ۷۵۳۱۱۰۰۰۱۳

معاونت پژوهش، برنامه ریزی و سنجش مهارت

دفتر سنجش مهارت و صلاحیت حرفه ای

۱- نام دیگر اصطلاح الگوی کت چیست ؟

الف- تایور

ب- کاپ

ج- اگردیسمان

د- پاترون تیپ

۲- اولین حلال لکه ها چیست ؟

الف- آب

ب- الکل

ج- بنزین

د- اب اکسیژنه

۳- جیب فیلتهایی با چه اندازه ای برای اشخاص سایز متوسط در کت صحیح است ؟

الف- عرض دهانه ۱۲ سانتی متر

ب- عرض دهانه ۱۱ سانتی متر

ج- عرض دهانه ۱۲ الی ۱۴ سانتی متر

د- عرض دهانه ۱۰ سانتی متر

۴- در لکه گیری در پارچه های رنگین باید به چه چیز بیشتر دقت شود ؟

الف- جنس پارچه و نوع رنگ

ب- نوع رنگ و تاثیر مواد لکه گیری

ج- تاثیر مواد لکه گیر _ جنس پارچه و نوع رنگ

د- نوع رنگ

۵- کوک برجسته برای کدام لباس استفاده می شود؟

الف- پیراهن

ب- لباس شب

ج- کت و پالتو

د- شومیز

۶- نام دیگر یقه شاخی کدام است ؟

الف- سورچی

ب- بلیزر

ج- ایستاده

د- مسطح

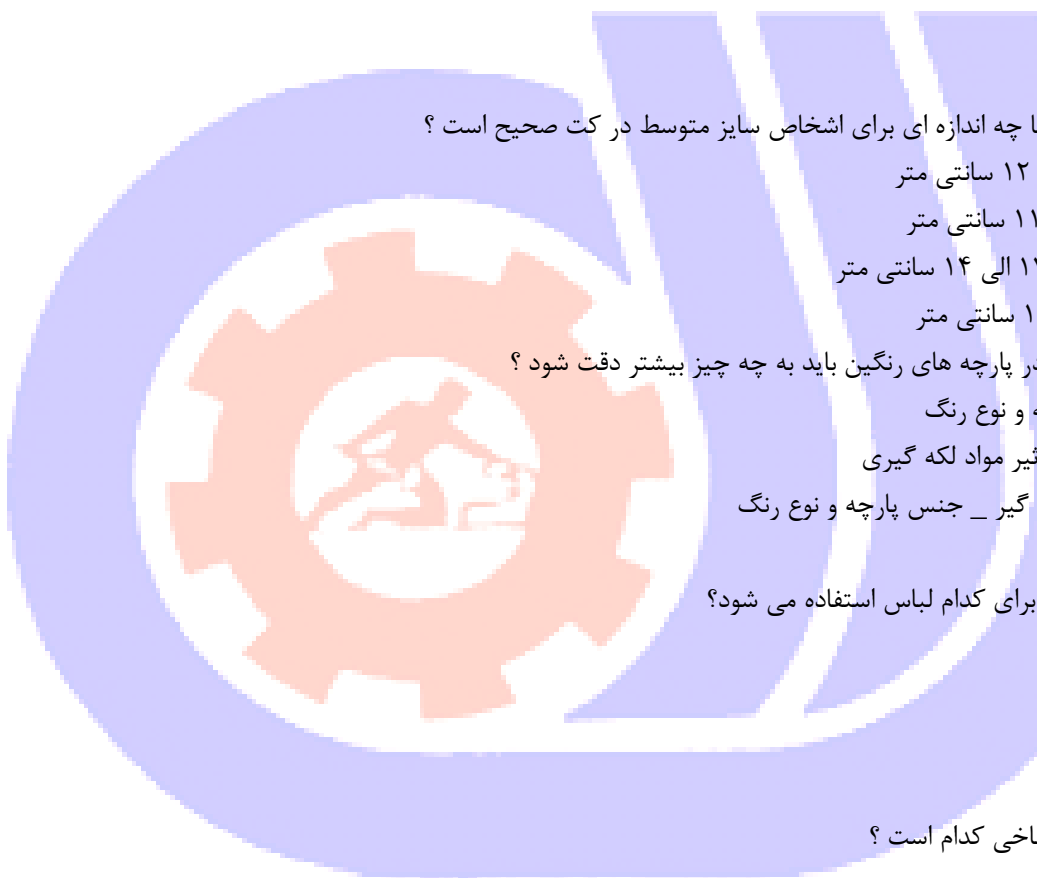
۷- علت خالی کردن اب داخل اتوی بخار پس از اتمام کار چیست ؟

الف- اب باقی مانده بخار می شود

ب- اتو زنگ می زند

ج- اب در داخل اتو رسوب می کند

د- اب باقی مانده از اتو می ریزد



۸- لایی مناسب پارچه های ضخیم چیست ؟

الف- لایی چسب _ لایی کاغذی

ب- لایی مویی ساده _ لایی مویی چسب دار

ج- لایی پارچه ای متقال _ لایی ارگانزا

د- لایی کاغذی _ زانفیکس

۹- استین با پنس عمودی و یک درز دوخت مناسب چه نوع لباسی است ؟

الف- جهت کاپشن

ب- جهت لباس های فانتری

ج- جهت کت

د- جهت پالتو

۱۰- استری کت و پالتو از جنس می باشد.

الف- پشمی

ب- مخمل

ج- ساتن

د- ژرسه

۱۱- عرض کادر استین کت کدام است؟

الف- ۱/۲ دور بازو + ۲

ب- ۱/۲ دور بازو + ۳

ج- ۱/۴ دور بازو + ۳

د- ۱/۲ دور بازو + ۵/۵

۱۲- در جنگ جهانی دوم بیش تر مورد استفاده سربازان بود .

الف- پالتوی بلند

ب- کت های بلند

ج- لباس نظامی

د- کت های کوتاه

۱۳- قد ایده ال کت های بلند مردانه باید باشد.

الف- چند سانتی متر پایین تر از استخوان زانو

ب- پایین تر از استخوان ران

ج- دقیقا تا روی قوزک پا

د- روی باسن

۱۴- در الگوی کت از خط سینه و کمر چند سانتی متر خارج می شویم.

الف- ۱ تا ۲ سانتی متر

ب- ۲ تا ۳ سانتی متر

ج- ۳ تا ۴ سانتی متر

د- ۵/۵ سانتی متر

۱۵- در پارچه های ضخیم جیب داخل درز چگونه دوخته می شود ؟



الف- توسط خود پارچه

ب- توسط متقال

ج- با استفاده از نوار اریب

د- توسط استر

۱۶- چگونه می توان تماس بدن شخص برق گرفته با سیم لخت را قطع کرد؟

الف- استفاده از روزنامه چند لایه

ب- استفاده از چوب خشک و طناب خشک

ج- ولتاژ برق را پایین آورد

د- استفاده از دستمال چند لایه

۱۷- مقدار پارچه لازم جهت کت ساده و اندام متوسط با عرض ۱۵۰ چقدر است؟

الف- یک قد پارچه

ب- دو قد پارچه

ج- یک قد کت و یک قد استین

د- یک متر و هشتاد سانتی متر

۱۸- برای جلوگیری از ریشه شدن پارچه هنگام دوخت جیب چه کاری انجام می دهند؟

الف- سردوز می کنیم

ب- زیر آن لایی می چسبانیم

ج- پس دوزی می کنیم

د- نوار اریب می زنیم

۱۹- با چه موادی می توان لکه ناشی از سوختگی اتو را از بین برد؟

الف- مقدار مساوی آب و سرکه

ب- محلول گرم سرکه و نمک

ج- استفاده از صابون رخت شویی

د- دو قاشق امونیاک در نیم لیتر آب

۲۰- اثر کدام یک از مواد زیر از روی پارچه راحت تر پاک می شود؟

الف- کاربن

ب- صابون خیاطی

ج- گچ (مل خیاطی)

د- مداد مخصوص رد گذاری

۲۱- خطی که یقه از آن تا خورده و بر می گردد چه نام دارد؟

الف- خط گردن

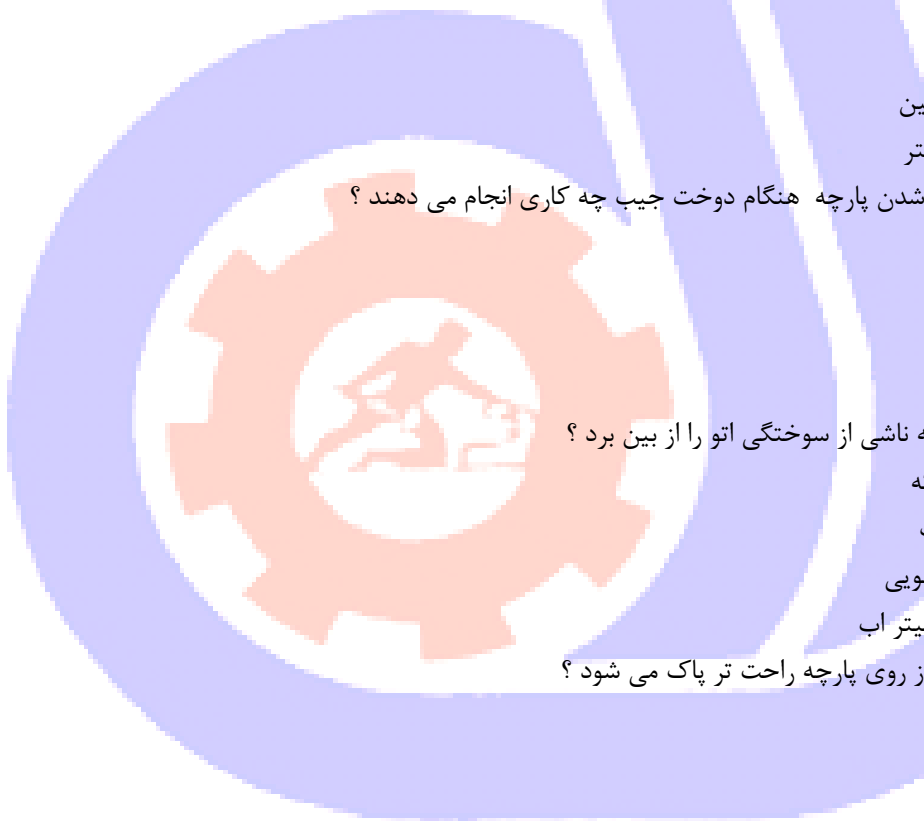
ب- خط طرح یقه

ج- خط شکست

د- خط پایه یقه

۲۲- کدام لایی از دو طرف به پارچه می چسبد؟

الف- لایی کاغذی



ب- لایی پارچه ای

ج- لایی ارگانزا

د- زانفیکس

۲۳- بهترین روش برای تیز کردن تیغه های قیچی کدام است ؟

الف- بریدن ورقه سمباده

ب- بریدن پارچه

ج- بریدن ورقه الومینیم

د- بریدن کاغذ

۲۴- این چرخ توانایی انجام چندین کار را دارد ؟

الف- راسته دوز

ب- سر دوز

ج- چرخ همه کاره خانگی

د- مادگی دوز

۲۵- جیب المانی چگونه جیبی است ؟

الف- دهانه ان تیز به طرف پایین است

ب- دهانه ان هلال یا زاویه دار به طرف کمر است

ج- دهانه ان تیز به طرف باسن است

د- دهانه ان هلال به طرف باسن است

۲۶- نام دیگر تنظیم کننده نخ چرخ خیاطی چیست ؟

الف- صفحه کشویی

ب- شیطانک

ج- ماکو چرخ

د- درجه کشش نخ

۲۷- منظور از دوخت دکمه دوپل چیست ؟

الف- دوخت یک دکمه کوچک زیر دکمه اصلی در پشت لباس

ب- دوخت دو دکمه با پایه

ج- دوخت یک دکمه با پایه

د- دوخت دو دکمه روی هم توام روی لباس

۲۸- اگر گوشه های جیب گرد هستند اضافه درزها را چگونه باید قیچی کرد تا جادرز برگردد و زاویه دار نشود ؟

الف- به صورت منحنی

ب- به صورت مربع های کوچک

ج- به صورت مثلث های کوچک

د- به صورت مستقیم

۲۹- لایی که از پشم درست می شود و بیش تر برای لایی کاری کت و پالتو استفاده می شود است.

الف- لایی مویی

ب- کرباس



ج- زانفیکس

د- لایی کاغذی

۳۰- در یقه انگلیسی قابل تغییر ۴ دکمه روی هم گرد دگمه و جا دگمه چند سانتی متر است ؟

الف- ۳ تا ۶ سانتی متر

ب- ۲ تا ۴ سانتی متر

ج- ۶ تا ۸ سانتی متر

د- ۲ تا ۵ سانتی متر

۳۱- برای خوش فرم ایستادن کاپ استین در کت از چه چیزی استفاده می شود ؟

الف- نوار دوزی می شود

ب- چین می زنیم

ج- فتیله گذاری می شود

د- اپل ناودانی استفاده می شود

۳۲- مناسب ترین نخ برای دوخت پارچه های پشمی و ابریشمی کدام است ؟

الف- مر سریزه

ب- قرقره ابریشمی

ج- نخ های پنبه ای

د- نخ عمامه نازک

۳۳- برای جلو گیری از رد درز روی پارچه هنگام اتو زدن از استفاده می شود .

الف- درزها را اتو نمی کنیم

ب- از یک باریک کاغذ سفید در زیر درز استفاده می شود

ج- اتو داغ و اتو سرد استفاده می شود

د- با استفاده از پارچه اتو می زنیم

۳۴- رنگ هایی که جذابیت خاصی به پوشش مردان می دهند چه رنگ هایی است ؟

الف- مشکی _ سبز

ب- سرمه ای _ ابی

ج- ابی تیره _ خاکستری ذغالی

د- قهوه ای _ طوسی روشن

۳۵- کت و شلوار های چهار خانه برای چه سنی از مردان مناسب است ؟

الف- ۲۵ تا ۴۰

ب- ۲۰ تا ۳۰

ج- ۴۰ تا ۶۰

د- ۶۰ تا ۸۰

۳۶- مشخصات کت های تک سینه چه چیزهایی است ؟

الف- کت هایی که یک یا دو دکمه دارند

ب- کت های چهار دکمه

ج- کت های شش دکمه



د- کت هایی که بسشتر از ۵ دکمه دارند

۳۷-کت های دو سینه چه مشخصاتی دارند ؟

الف- ۳ دکمه دارند

ب- دو _ چهار _ شش دکمه دارند

ج- یک یا دو دکمه دارند

د- تعداد دکمه هایشان بیشتر از ۶ دکمه باشد

۳۸-کت های دو دکمه برای مجالس مناسب است .

الف- عروسی

ب- عزاداری

ج- رسمی

د- میهمانی

۳۹-معمولا جنس کت های رسمی ازاست.

الف- تریکو

ب- شانتن

ج- پشم

د- اکریلیک

۴۰-قد مناسب کت باید تاباشد.

الف- نوک انگشتان شست دست

ب- تا روی کمر

ج- تا روی باسن

د- پایین تر از باسن

۴۱-معمولا جیب های کت رسمی به صورت یا است .

الف- کراس _ پاکتی

ب- جلیقه ای _ فیلتابی

ج- پاکتی _ فیلتاب

د- فیلتاب _ کراس

۴۲-هنگام پوشیدن کت در حالت ایستاده یقه لباس بایدتا از یقه کت بالاتر باشد .

الف- ۲-۳

ب- ۳_۵

ج- ۱_۰.۵

د- ۲_۰.۵

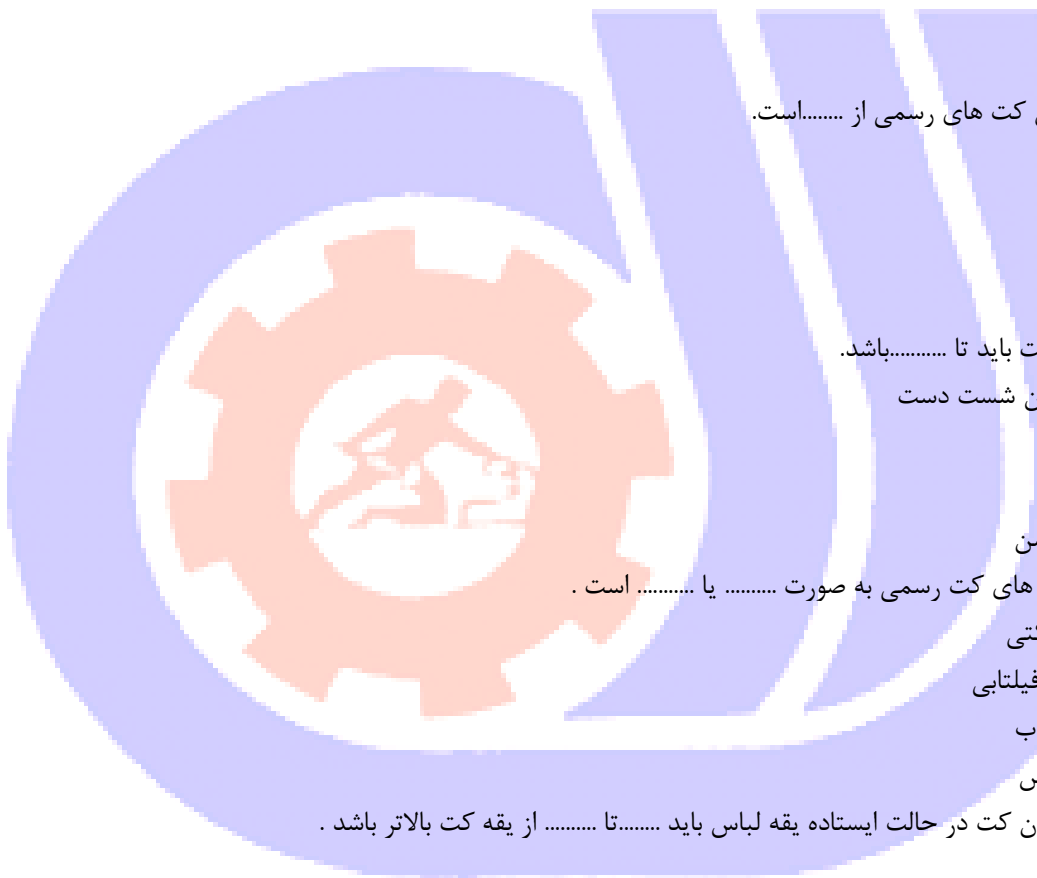
۴۳-در کت های دو دکمه . دکمه باید بالاتر از قرار گیرد .

الف- ناف

ب- سینه

ج- کمر

د- باسن



۴۴- استین کت باید چند سانتی متر کوتاه تر از سر استین باشد ؟

الف- ۲

ب- ۳

ج- ۱/۵

د- ۳/۵

۴۵- پهنای کراوات باید با پهنای متناسب باشد .

الف- یقه کت

ب- پیراهن

ج- مچ شومیزه

د- دابل پیراهن

۴۶- در انتهای جیب برای محکم شدن دهانه جیب از چه دوختی استفاده می شود ؟

الف- دوخت پیکانی

ب- بخیه درشت

ج- دوخت نورور

د- دوخت تزئینی

۴۷- طول چاک استین کت چند سانتی متر است ؟

الف- ۸ سانتی متر

ب- ۶ سانتی متر

ج- ۱۰ سانتی متر

د- ۱۲ سانتی متر

۴۸- در قسمت جلوی کت از چه نوع لایی استفاده می شود ؟

الف- در ز زیر بازوی استین

ب- لبه استین

ج- درز روی استین

د- کاپ استین

۴۹- اقدامات لازم بر روی فردی که دچار برق گرفتگی دارد چیست ؟

الف- جریان برق را قطع کنید و سیم را از مصدوم جدا کنید و تنفس مصنوعی بدهید

ب- تنفس مصنوعی بدهید

ج- بر روی مصدوم آب بپاشید

د- جریان برق را قطع کنید

۵۰- در استین کت دو تکه ابتدا کدام قسمت دوخته می شود؟

الف- درز زیر بازوی استین

ب- لبه ی استین

ج- درز روی استین

د- کاپ استین

۵۱- کدام ماشین مخصوص دوخت جا دکمه برای انواع لباس است؟



الف- مادگی دوز

ب- راسته دوز

ج- اورلوک

د- زیگزاگ دوز

۵۲- برای لکه گیری و سفید کردن کدام یک از پارچه ها نمی توان از آب ژاول استفاده کرد؟

الف- ویسکوز

ب- نخ

ج- پنبه ای

د- پشمی

۵۳- چه نوع پارچه ای در شست و شو با آب تصفیه شده و سختی دار، حالت اولیه خود را از دست داده و ترد و شکننده می شود؟

الف- ابریشمی

ب- پشمی

ج- کشمیر

د- موه

۵۴- آفیسیت به کدام یک از یقه ها مربوط می شود؟

الف- یقه شکاری

ب- یقه آرشال جلو بسته

ج- یقه ایستاده جلو بسته

د- یقه فانتزی

۵۵- حرارت اتو برای اتوکشی پارچه های نخ و کتان چگونه است؟

الف- باید متوسط باشد

ب- باید کم باشد

ج- باید زیاد باشد

د- اتو باید سرد باشد

۵۶- ولولورت چیست؟

الف- تخته ای مخصوص اتوی پارچه مخمل

ب- یک نوع وسیله برای اندازه گیری

ج- قسمتی از چرخ خیاطی

د- همان ژانت است

۵۷- سایز مورد استفاده در ایران کدام است؟

الف- ۱۲ تا ۳۲

ب- ۳۴ تا ۵۶

ج- ۸ تا ۳۰

د- ۲۴ تا ۵۴

۵۸- کت های با دو برش در پشت استایل دارند .

الف- فرانسوی



ب- ایرانی

ج- انگلیسی

د- امریکایی

۵۹- جلیقه مردانه با چه لباسی پوشیده می شود ؟

الف- کت تک دکمه یا دو دکمه

ب- کت چهار دکمه

ج- شومیزه بدون یقه

د- شومیزه یقه دار

۶۰- پوشیدن کت سیاه غالباً برای مراسم است .

الف- میهمانی

ب- عزاداری

ج- رسمی

د- معمولی

۶۱- رنگ کمر بند باید با رنگ ست باشد .

الف- کت

ب- پیراهن

ج- کفش

د- شلوار

۶۲- کفش و باید با هم ست باشند .

الف- کت

ب- شلوار

ج- پیراهن

د- کمر بند

۶۳- گره های کوچک کراوات برای چه اشخاصی مناسب است ؟

الف- قد بلند و لاغر

ب- چاق و کوتاه

ج- چاق و قد بلند

د- کوتاه و لاغر

۶۴- این مدل لباس بهترین لباس مجلسی آقایان می باشد ؟

الف- پیراهن و شلوار

ب- کت و شلوار

ج- جلیقه و شلوار

د- کت اسپرت و جلیقه

۶۵- بهترین گزینه رنگ شلوار برای ست کردن کت تک مردانه رنگ خاکستری یا طوسی کدام رنگ است ؟

الف- سرمه ای _ ابی تیره _ مشکی

ب- مشکی _ طوسی _ سفید



ج- قهوه ای _ مشکی _ ابی روشن

د- سرمه ای _ قهوه ای _ کرم

۶۶-کت تک مردانه مشکی بهتر است با شلواری به رنگ یا پوشیده شود.

الف- قهوه ای _ طوسی

ب- کرم _ ابی تیره

ج- طوسی _ خاکستری

د- مشکی _ ابی تیره

۶۷-این کت ها مناسب استفاده روزمره بوده و به عنوان کت رسمی به شمار نمی رود؟

الف- کت تک سینه

ب- کت دو سینه

ج- اسپرت

د- یقه بلیزر

۶۸-رنگ های مناسب کت های اسپرت چه رنگ هایی هستند؟

الف- قهوه ای _ خاکستری _ سرمه ای

ب- مشکی _ طوسی _ ابی

ج- قهوه ای _ مشکی _ سفید

د- سفید _ طوسی _ سرمه ای

۶۹-مقدار اضافه درز برای برش حلقه استتین کت چقدر است؟

الف- ۳

ب- ۱

ج- ۱/۵

د- ۵/۵

۷۰-دوخت پنس ها روی لایی مویی چگونه انجام می شود؟

الف- پنس را با چرخ می دوزیم

ب- نصف هر پنس را چیده روی طرف دیگر گذاشته زیگزاگ می زنیم

ج- در قسمت لایی دار پنس نمی گیریم

د- پنس را با دست دوخت می زنیم

۷۱-در کت چرا از استتین دو تکه استفاده می شود؟

الف- جهت ایجاد برش در استتین

ب- برای حالت دادن استتین

ج- جهت اریب کردن زیر استتین

د- به جهت جبران کمبود پارچه

۷۲-اندازه عرض دهانه جیب چقدر است؟

الف- بین ۱۲ تا ۱۶

ب- بین ۱۴ تا ۱۶

ج- بین ۱۰ تا ۱۴



د- بین ۱۰ تا ۱۸

۷۳-در الگوی تایور (کت) از خط سینه چند سانتی متر خارج می شویم ؟

الف- ۱

ب- ۵/۱

ج- یک دهم خط سینه

د- یک پنجم خط سینه

۷۴-لایی گذاری قسمت جلوی کت چه موقع انجام می شود ؟

الف- قبل از دوخت جیب

ب- بعداز دوخت جیب

ج- بعد از وصل استین

د- بعداز چرخ کاری

۷۵-عرض کادر استین دو تکه چگونه به دست می آید ؟

الف- ۱/۴ دور بازو + ۵

ب- ۱/۲ دور بازو + (۱۲ _ ۹)

ج- ۱/۲ دور بازو + ۳

د- ۱/۲ دور بازو

۷۶-سوزن یقه و کاربرد آن کدام است؟

الف- برای تزئین لباس استفاده می شود

ب- برای دوخت لباس های حریر استفاده می شود

ج- با فاصله های معین روی پارچه های معمولی دوخته می شود

د- با بخیه های ظریف با فاصله های معین که در روی لایی مویی به جلوی لباس دوخته می شود

۷۷-یقه در خط مرکزی پشت و جلو چند سانتی متر گشاد می شود ؟

الف- ۱/۵

ب- ۲

ج- ۵٪

د- ۳

۷۸-روی هم گرد یقه بلیزر (شاخی) چهار دکمه چه اندازه ای است ؟

الف- ۶ تا ۸

ب- ۴ تا ۶

ج- ۳ تا ۴

د- ۸ تا ۱۰

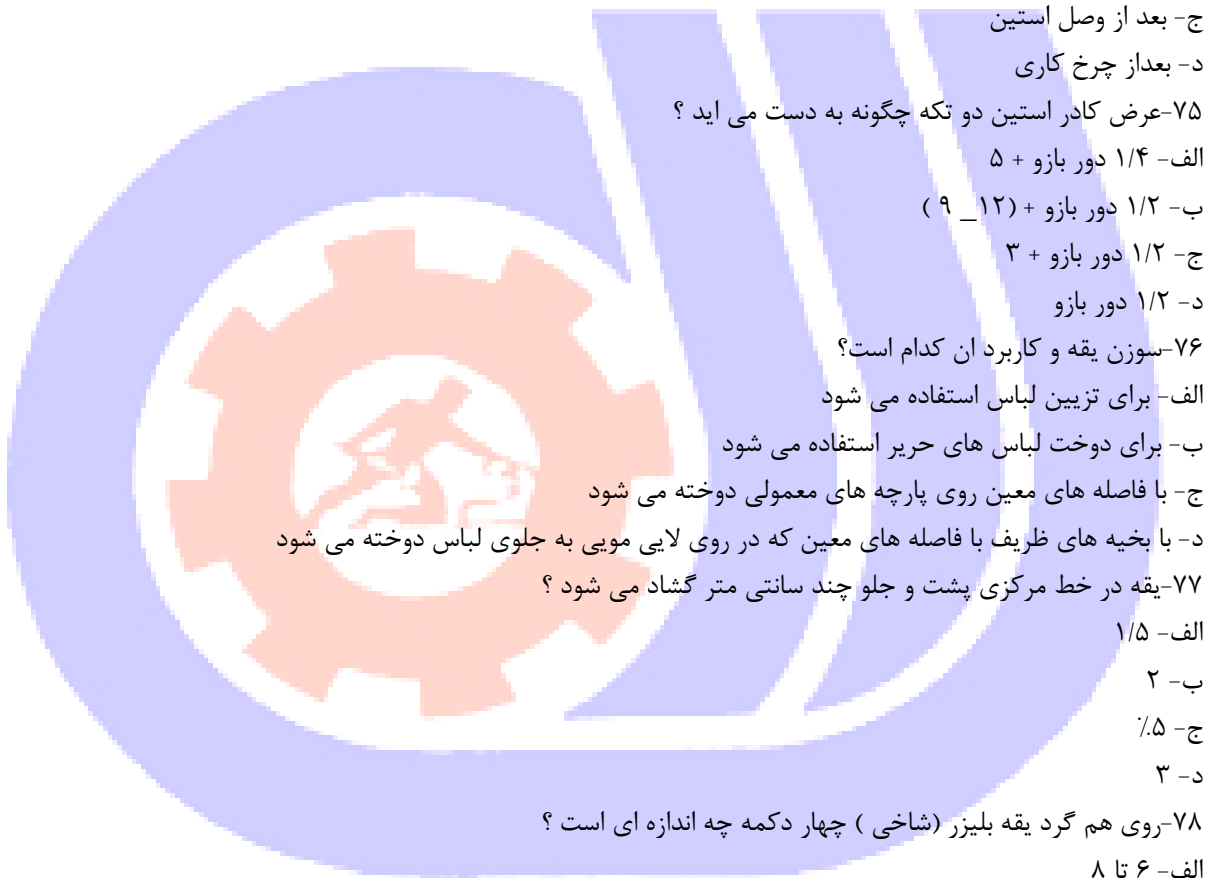
۷۹-فرم یقه کت با یقه پیتربان به چه صورت است ؟

الف- شبیه نوعی یقه انگلیسی

ب- تقریبا شبیه یقه ایستاده

ج- تقریبا شبیه یقه ب ب

د- یقه شکاری پهن



۸۰- جهت روی هم گرد کت (دکمه خور) چند سانتی متر در نظر می گیریم ؟

الف- ۳ سانتی متر

ب- ۲/۵ سانتی متر

ج- ۵ سانتی متر

د- ۲ سانتی متر

۸۱- چه نوع لایی مناسب زیر جیب می باشد ؟

الف- لایی چسب پارچه ای

ب- لایی کاغذی

ج- لایی زانیکس

د- لایی مویی

۸۲- لایی کت های قابل شستشو بهتر است از چه جنسی باشد ؟

الف- تافته یا ارگانندی که قبلا اب گذاشته شده

ب- لایی پارچه ای ضخیم

ج- لایی چسب کاغذی

د- لایی حریر که قبلا اب گذاشته شده

۸۳- علت پاره شدن نخ ماسوره هنگام دوخت کدام است ؟

الف- ماسوره زیادتر از حد معمول پر شده باشد

ب- کشیدن پارچه توام با فشار زیاد از زیر پارچه

ج- به سختی رد شدن نخ از دستگاه تنظیم نخ

د- پیچ ماکو سفت است

۸۴- چتایی چیست ؟

الف- الیاف نذوخته گونی را گویند

ب- همان دوخت دو درزه است

ج- نوعی نخ برای پارچه های ضخیم

د- پارچه غیر قابل نفوذ اب

۸۵- پود پارچه چیست ؟

الف- طول پارچه

ب- الیاف نازک پارچه

ج- عرض پارچه

د- تار پارچه

۸۶- برای اینکه بارانی پس از پوشیدن تغییر فرم ندهد چکار کنیم ؟

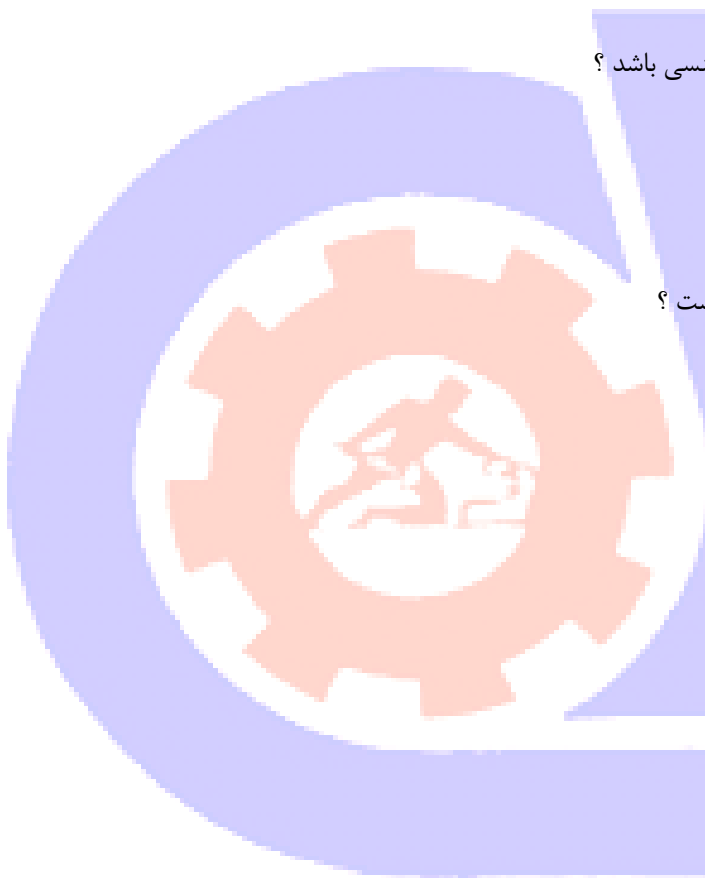
الف- با اب می شویم

ب- بلافاصله در جای خشک و خنک اویزان می کنیم

ج- بلافاصله در جای گرم و با اتو خشک می کنیم

د- ان را خشک شویی می بریم

۸۷- چه مواردی باعث از بین رفتن حالت ارتجاعی پشم می شود ؟



الف- قلیا ها

ب- اب گرم

ج- اسیدها

د- سرکه و نفت

۸۸- برای انتقال الگو روی استر معمولا از استفاده می شود .

الف- کپی های مخصوص

ب- کوک شل

ج- کاربن

د- دوخت کوک

۸۹- در بالاتنه برای اینکه برش های عرضی تغییر شکل ندهد چکار کنیم ؟

الف- برش را دو لا بر می داریم

ب- برش را از عرض پارچه بر می داریم

ج- لایی کاغذی به برش بچسبانیم

د- باید با پارچه لطیف یا ارگانزا دوبله کرد

۹۰- اگر پارچه پالتو و کت از جنس مخمل و براق باشد رعایت چه نکته ای لازم است ؟

الف- باید از طول الگوها کم کنیم

ب- باید تمامی الگوها را به یک جهت برش بزنیم

ج- باید از طرفین الگو کم کنیم

د- باید به طرفین الگو اضافه کنیم

۹۱- ژانت چیست ؟

الف- تخته پرس

ب- ولو لورت

ج- طیاره

د- میز اتو

۹۲- چه موقع ماکو را نصب یا بیرون می آوریم ؟

الف- میله نگه دارنده سوزن بالا باشد

ب- میله نگه دارنده سوزن پایین باشد

ج- نخ رو را رد کرده باشیم

د- قبل از رد کردن نخ رو

۹۳- استین های مناسب کت و پالتو کدامند ؟

الف- استین رگلان _ استین دو تکه

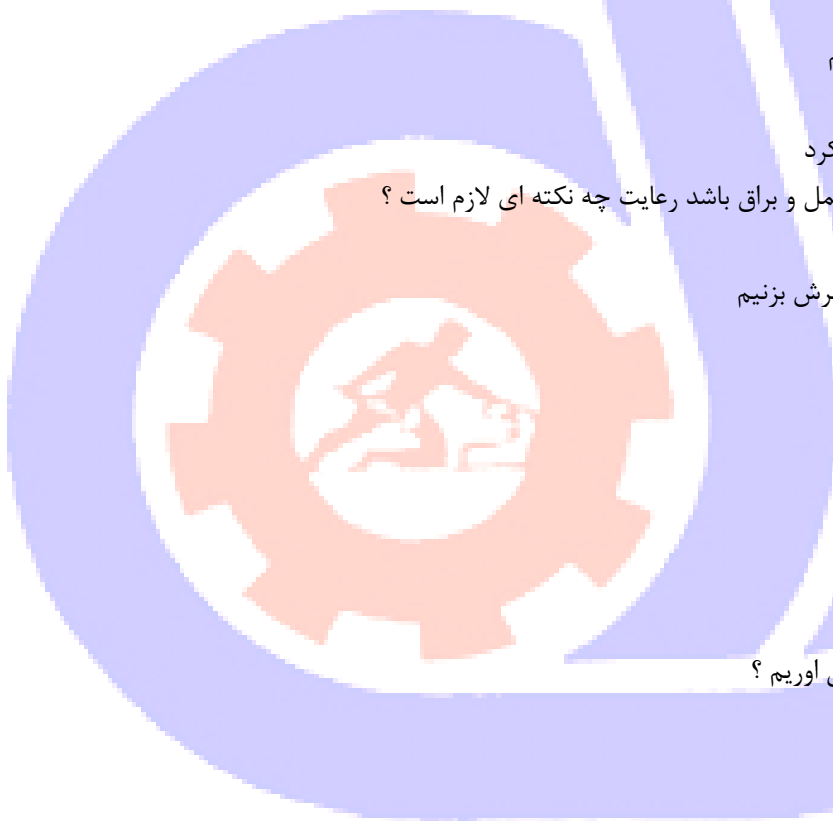
ب- استین دو تکه _ استین دو تکه یک درز دوخت

ج- استین دو تکه _ استین کلاهی

د- استین کوتاه _ استین دو تکه

۹۴- نور مناسب کارگاه خیاطی باید به چه صورت باشد ؟

الف- مستقیم



ب- غیر مستقیم

ج- پر نور

د- کم نور

۹۵- طریقه برطرف کردن لکه گل از روی لباس چگونه است ؟

الف- با محلول امونیاک

ب- اب گرم و صابون

ج- اب اکسیژنه

د- محلول پر منگنات و پتاسیم

۹۶- کوک بست در مورد چه پارچه هایی کار برد دارد ؟

الف- ساده

ب- راه راه چهار خانه

ج- مخمل

د- گل دار

۹۷- پارچه های پشمی را با چه درجه ای باید اتو کرد ؟

الف- ۱۰۰ درجه

ب- ۸۰ درجه

ج- ۹۰ درجه

د- ۷۰ درجه

۹۸- لکه میوه های رنگین مانند اب انار و اب گیلاس چگونه پاک می شود ؟

الف- با الکل

ب- با محلول ده درصد هیدرو سولفیت دو سود

ج- با اب و صابون

د- با محلول اب ژاول

۹۹- فراک یعنی چه ؟

الف- لباس مجلسی

ب- لباس راحتی مردانه

ج- لباس رسمی مردانه

د- شومیزه مردانه

۱۰۰- L علامت چیست ؟

الف- سایز بزرگ

ب- سایز کوچک

ج- سایز متوسط

د- سایز خیلی بزرگ

۱۰۱- لکه های قلیایی (صابون) را چگونه باید از بین برد ؟

الف- اسید استیک دو درصد

ب- اسید سولفوریک



ج- آب نیم گرم

د- اسید اگزالیک

۱۰۲- دیشلو به چه معنی است ؟

الف- ساقه گیاهی به نام لینه

ب- قسمت پایه چرخ های پایی

ج- پیلی دو قلو

د- دو لا بسته پارچه

۱۰۳- استفاده از پارچه های برای مهار میکروب ها در خدمات بهداشتی درمانی بسیار مفید بوده است.

الف- چلوار

ب- ساتن

ج- نانو

د- کتان

۱۰۴- معمولا برای افزون مقاومت در برابر چین و چروک یک پارچه از چه ماده ای استفاده می شود؟

الف- اکسید روی

ب- تیتانیوم

ج- رزین

د- ذرات نقره

۱۰۵- معمولا برای افزودن مقاومت در برابر چین و چروک یک پارچه از چه ماده ای استفاده می شود؟

الف- اکسید روی

ب- تیتانیوم

ج- رزین

د- ذرات نقره

۱۰۶- استفاده از پارچه برای مهار میکروب ها در خدمات بهداشتی درمانی بسیار مفید بوده است .

الف- چلوار

ب- ساتن

ج- نانو

د- کتان

۱۰۷- دیشلو به چه معنی است ؟

الف- ساقه گیاهی به نام لینه

ب- قسمت پایه چرخ های پایی

ج- پیلی دو قلو

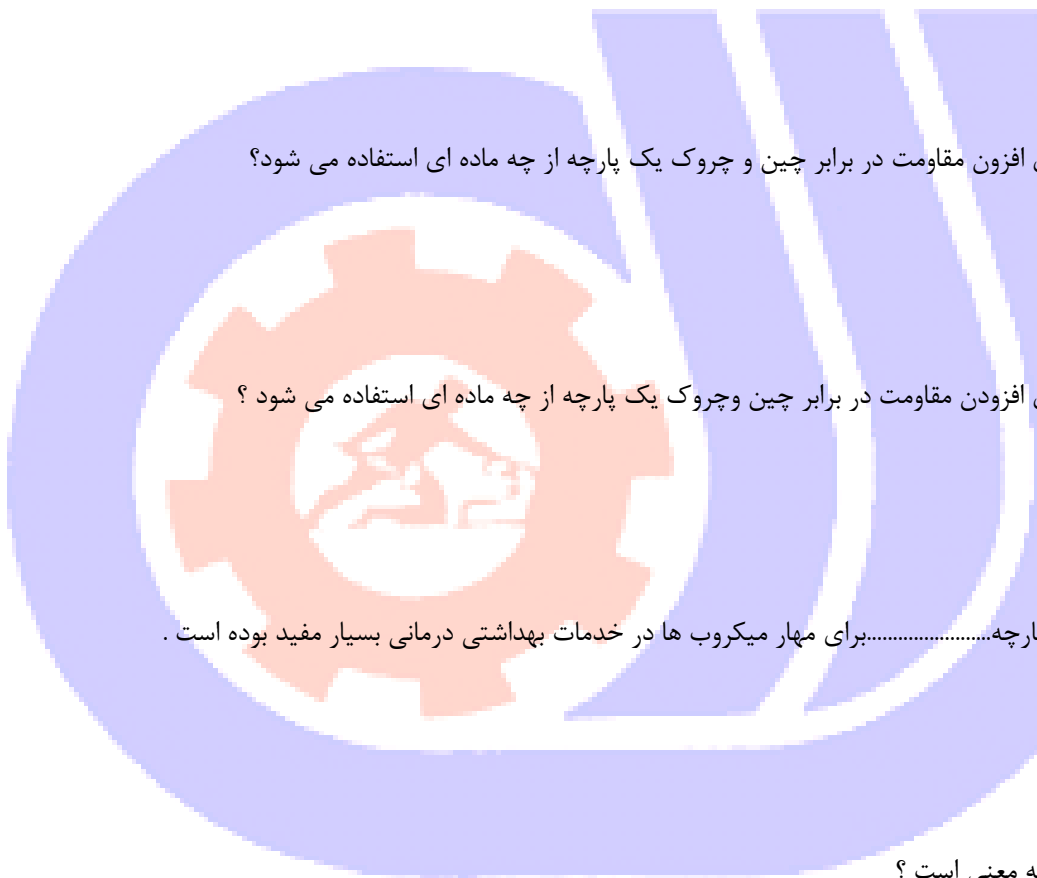
د- دو لای بسته پارچه

۱۰۸- لکه های قلیایی (صابون) را چگونه از بین ببریم ؟

الف- اسید استیک دو درصد

ب- اسید سولفوریک

ج- آب نیم گرم



د- اکسید اگزالیک

۱۰۹- به چه معنا است L؟

الف- سایز بزرگ

ب- سایز کوچک

ج- سایز متوسط

د- سایز خیلی بزرگ

۱۱۰- فراک یعنی چه ؟

الف- لباس مجلسی

ب- لباس راحتی مردانه

ج- لباس رسمی مردانه

د- شومیزه مردانه

۱۱۱- لکه های میوه های رنگین مانند آب انار و آب گیلان چگونه پاک می شود ؟

الف- با الکل

ب- با محلول ده درصد هیدرو سولفیک دو سود

ج- با آب صابون

د- با محلول آب ژاول

۱۱۲- پارچه های پشمی را با چه درجه ای باید اتو کرد ؟

الف- ۱۰۰ درجه

ب- ۸۰ درجه

ج- ۹۰ درجه

د- ۷۰ درجه

۱۱۳- کوک بست در مورد چه پارچه هایی کاربرد دارد ؟

الف- ساده

ب- راه راه چهار خانه

ج- مخمل

د- گل دار

۱۱۴- طریقه برطرف کردن لکه گل از روی لباس چگونه است ؟

الف- با محلول آمونیاک

ب- آب گرم و صابون

ج- آب اکسیژنه

د- محلول پر منگنات و پتاسیم

۱۱۵- نور مناسب کارگاه خیاطی باید به چه صورت باشد ؟

الف- مستقیم

ب- غیر مستقیم

ج- پر نور

د- کم نور



۱۱۶- شایستگی در استاندارد دوزنده کت مردانه به چه معناست؟

الف- توانایی انجام کار

ب- قدرت بدنی انجام کار

ج- مجموعه از چند شغل همگن

د- تجزیه و تحلیل شغل

۱۱۷- مهارت در استاندارد دوزنده کت مردانه به چه معناست ؟

الف- مواردی که انجام دادن یا ندادن کار را بررسی می کند

ب- حداقل هماهنگی بین ذهن و جسم

ج- مجموعه ای از چند شغل همگن

د- رعایت ایمنی و بهداشت محیط کار

۱۱۸- به طور کلی اندام ها به چند دسته تقسیم می شود ؟

الف- دو دسته نرمال و غیر نرمال

ب- دسته چاق و لاغر

ج- چهار دسته

د- سه دسته

۱۱۹- قد کت لارج (L) برای آقایان با قد ۱۷۸ تا ۱۸۵ سانتی متر چند سانتی متر است ؟

الف- ۵۰ تا ۶۰ سانتی متر

ب- ۷۵ تا ۸۵ سانتی متر

ج- ۸۴ تا ۸۹ سانتی متر

د- ۹۰ تا ۱۰۰ سانتی متر

۱۲۰- سایز کت هنگام خرید با توجه به چه اندازه ای مشخص می شود ؟

الف- دور سینه _ دور باسن _ دور کمر

ب- دور گردن _ دور باسن _ دور بازو

ج- دور سینه _ عرض شانه _ قدامتین

د- قد استین _ قد کت _ دور سینه

۱۲۱- هنگام اندازه گیری جهت کت مردانه شخص اندازه شونده چه لباسی برتن داشته باشد که به اندازه گیرنده در اندازه گیری

کمک کند؟

الف- لباس نخ

ب- لباس گشاد و راحت

ج- تاپ یا رکابی

د- پیراهن رسمی

۱۲۲- در اندازه گیری اندام مردانه کدام قسمت اندام عریضتر می باشد ؟

الف- دور سینه

ب- دور باسن

ج- دور کمر

د- سرشانه ها

۱۲۳- کدام کاغذ مناسب رسم الگو می باشد؟

الف- کاغذ روغنی و کاغذ گراف

ب- کاغذ پوستی و کاغذ شطرنجی

ج- کاغذ کالک

د- کاغذ کاهی

۱۲۴- استفاده از چه نوع پارچه هایی در دوخت کت اندام را باریک تر نشان می دهد؟

الف- پارچه خطوط افقی

ب- پارچه با خطوط عمودی

ج- پارچه های مخمل

د- پارچه های تیره

۱۲۵- هر اینچ چند سانتی متر است؟

الف- $5\frac{1}{2}$ سانتی متر

ب- $5\frac{3}{4}$ سانتی متر

ج- ۴ سانتی متر

د- $5\frac{1}{4}$ سانتی متر

۱۲۶- در رسم الگو از گونیا چه استفاده ای می شود؟

الف- برای رسم زوایا و خطوط قائمه بکار می رود

ب- برای رسم خطوط منحنی

ج- برای رسم برش ها و یقه ها بکار می رود

د- برای رسم خطوط عمودی

۱۲۷- در خیاطی پیستوله به چه معناست؟

الف- برای رسم خطوط عمودی و افقی در الگو

ب- برای رسم خطوط منحنی در الگو

ج- برای رسم یقه ها و زوایا

د- برای خطوط پای پوشاک بکار می رود

۱۲۸- بطور کلی اندام مردانه به چند گروه تقسیم می شود؟

الف- سه گروه

ب- چهار گروه

ج- پنج گروه

د- شش گروه

۱۲۹- انواع پارچه مناسب رویه کت کدام می باشد؟

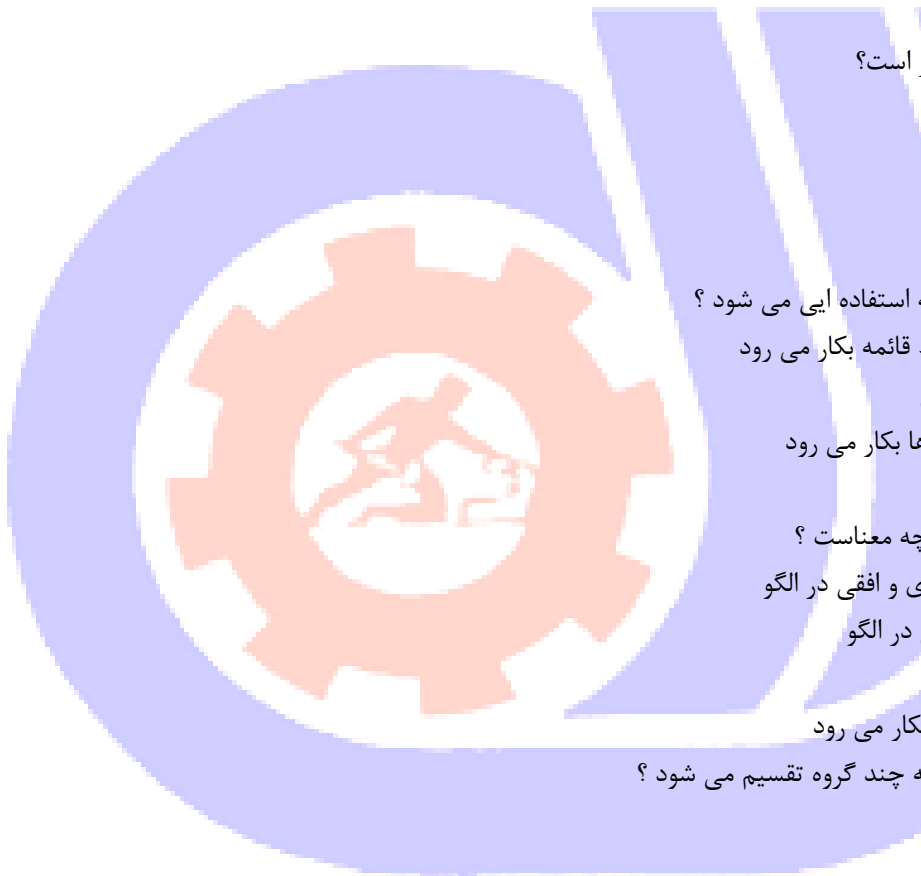
الف- فاستونی_ پشمی_ کتان_ جین

ب- مخمل_ حریر_ پشمی_ کتان

ج- گلدار_ جین_ پشمی_ فاستونی

د- تافته_ ابریشم_ فاستونی_ حریر

۱۳۰- استر مناسب کت با توجه به رویه اصلی کدام دسته می باشد؟



الف- بافت _ پنبه ای _ ساتن

ب- تور _ مخمل _ ساتن

ج- چهار خانه _ راه راه _ چرم

د- ابریشمی _ پلی استر _ ساتن

۱۳۱- بر روی الگو چه مشخصاتی باید نوشته شود ؟

الف- خط راستا_ نقاط موازانه_ جنس پارچه

ب- خط راستا_ دولای پارچه _ نقاط موازانه _ نام هر نقطه الگو

ج- جنس پارچه _ راه پارچه _ روش اتو کردن_ جلو و پشت

د- یقه _ ساسون_ جیب ها _ جنس پارچه

۱۳۲- این نوع پارچه ها دارای چهار خانه مساوی هستند؟

الف- پیچازی منظم

ب- پیچازی نا منظم

ج- پیچازی نامتقارن

د- پیچازی بازاری

۱۳۳- سایز متوسط را با علامت اختصاری نشان می دهند

الف- S

ب- M

ج- L

د- XL

۱۳۴- چه اندامی می تواند تمام اندازه های خود را از روی جدول سایزبندی استفاده کند ؟

الف- اندام لاغر باتوجه به بلندی قد

ب- اندام چاق و لاغر باتوجه به دور سینه

ج- اندام نرمال با توجه به بلندی قد

د- جوانان و نوجوانان

۱۳۵- سایز..... را باعلامت اختصاری نشان می دهد

الف- کوچک_ L

ب- متوسط_ S

ج- بزرگ_ S

د- بزرگ_ L

۱۳۶- مقدار پارچه مورد نیاز جهت دوخت کت مردانه چقدر می باشد ؟

الف- ۱ الی ۲ متر

ب- ۱ الی ۵/۱ متر ۷۰/۱ سانتی متر

ج- ۲ الی ۵۰/۲ سانتی متر

د- ۲ الی ۵۰/۳ متر

۱۳۷- الگوی کت شامل چه قسمت هایی می باشد؟

الف- پیش کت _ پشت کت _ تکه بغل _ استین دوتکه _ الگوی یقه

ب- الگوی جلو_ الگوی پشت_ تیره پشت_ استین یقه_ سجاف

ج- الگوی جلو_ الگوی پشت_ الگوی استین

د- الگوی جلو_ الگوی پشت_ الگوی استین_ الگوی یقه_ سجاف_ جادکمه

۱۳۸- هنگام چیدمان الگو روی پارچه به چه نکاتی باید دقت کرد؟

الف- راه و بی راه پارچه_ پشت پارچه

ب- طول و عرض پارچه و نقوش پایین پارچه

ج- طول و عرض پارچه و خواب پارچه

د- حاشیه دار بودن پارچه و جهت خواب

۱۳۹- موقع دوخت حلقه استین به حلقه بالاتنه حتما باید به.....دقت کرد که سر جای خود قرار بگیرد

الف- نقاط موازانه

ب- پشت و روی استین

ج- خرد خوردن استین

د- زاپاس دوخت

۱۴۰- نام دیگر اضافه درز چیست؟

الف- زاپاس

ب- ساسون

ج- یوک

د- نیل

۱۴۱- شایستگی در استاندارد دوزنده کت مردانه به چه معناست؟

الف- توانایی انجام کار

ب- قدرت بدنی انجام کار

ج- مجموعه از چند شغل همگن

د- تجزیه و تحلیل شغل

۱۴۲- مهارت در استاندارد دوزنده کت مردانه به چه معناست؟

الف- مواردی که انجام دادن یا ندادن کار را بررسی می کند

ب- حداقل هماهنگی بین ذهن و جسم

ج- مجموعه ای از چند شغل همگن

د- رعایت ایمنی و بهداشت محیط کار

۱۴۳- به طور کلی اندام ها به چند دسته تقسیم می شود؟

الف- دو دسته نرمال و غیر نرمال

ب- دسته چاق و لاغر

ج- چهار دسته

د- سه دسته

۱۴۴- قد کت لارج (L) برای آقایان با قد ۱۷۸ تا ۱۸۵ سانتی متر چند سانتی متر است؟

الف- ۵۰ تا ۶۰ سانتی متر

ب- ۷۵ تا ۸۵ سانتی متر



ج- ۸۴ تا ۸۹ سانتی متر

د- ۹۰ تا ۱۰۰ سانتی متر

۱۴۵- سایز کت هنگام خرید با توجه به چه اندازه ای مشخص می شود؟

الف- دور سینه _ دور باسن _ دور کمر

ب- دور گردن _ دور باسن _ دور بازو

ج- دور سینه _ عرض شانه _ قد استین

د- قد استین _ قد کت _ دور سینه

۱۴۶- هنگام اندازه گیری جهت کت مردانه شخص اندازه شونده چه لباسی بر تن داشته باشد که به اندازه گیرنده در اندازه گیری کمک کند؟

الف- لباس نخی

ب- لباس گشاد و راحت

ج- تاپ یا رکابی

د- پیراهن رسمی

۱۴۷- در اندازه گیری اندام مردانه کدام قسمت اندام عریضتر می باشد؟

الف- دور سینه

ب- دور باسن

ج- دور کمر

د- سرشانه ها

۱۴۸- کدام کاغذ مناسب رسم الگو می باشد؟

الف- کاغذ روغنی و کاغذ گراف

ب- کاغذ پوستی و کاغذ شطرنجی

ج- کاغذ کالک

د- کاغذ کاهی

۱۴۹- استفاده از چه نوع پارچه هایی در دوخت کت اندام را باریک تر نشان می دهد؟

الف- پارچه خطوط افقی

ب- پارچه با خطوط عمودی

ج- پارچه های مخمل

د- پارچه های تیره

۱۵۰- هر اینچ چند سانتی متر است؟

الف- ۲/۵ سانتی متر

ب- ۳/۵ سانتی متر

ج- ۴ سانتی متر

د- ۴/۵ سانتی متر

۱۵۱- در رسم الگو از گونیا چه استفاده ای می شود؟

الف- برای رسم زوایا و خطوط قائمه بکار می رود

ب- برای رسم خطوط منحنی



ج- برای رسم برش ها و یقه ها بکار می رود

د- برای رسم خطوط عمودی

۱۵۲- در خیاطی پیستوله به چه معناست ؟

الف- برای رسم خطوط عمودی و افقی در الگو

ب- برای رسم خطوط منحنی در الگو

ج- برای رسم یقه ها و زوایا

د- برای خطوط پای پوشاک بکار می رود

۱۵۳- بطور کلی اندام مردانه به چند گروه تقسیم می شود ؟

الف- سه گروه

ب- چهار گروه

ج- پنج گروه

د- شش گروه

۱۵۴- انواع پارچه مناسب رویه کت کدام می باشد؟

الف- فاستونی _ پشمی _ کتان _ جین

ب- مخمل _ حریر _ پشمی _ کتان

ج- گلداز _ جین _ پشمی _ فاستونی

د- تافته _ ابریشم _ فاستونی _ حریر

۱۵۵- استر مناسب کت با توجه به رویه اصلی کدام دسته می باشد ؟

الف- بافت _ پنبه ای _ ساتن

ب- تور _ مخمل _ ساتن

ج- چهار خانه _ راه راه _ چرم

د- ابریشمی _ پلی استر _ ساتن

۱۵۶- بر روی الگو چه مشخصاتی باید نوشته شود ؟

الف- خط راستا _ نقاط موازانه _ جنس پارچه

ب- خط راستا _ دولای پارچه _ نقاط موازانه _ نام هر نقطه الگو

ج- جنس پارچه _ راه پارچه _ روش اتو کردن _ جلو و پشت

د- یقه _ ساسون _ جیب ها _ جنس پارچه

۱۵۷- این نوع پارچه ها دارای چهار خانه مساوی هستند؟

الف- پیچازی منظم

ب- پیچازی نا منظم

ج- پیچازی نامتقارن

د- پیچازی بازاری

۱۵۸- سایز متوسط را با علامت اختصاری نشان می دهند

الف- S

ب- M

ج- L



د- XL

۱۵۹- چه اندامی می تواند تمام اندازه های خود را از روی جدول سایزبندی استفاده کند ؟

الف- اندام لاغر باتوجه به بلندی قد

ب- اندام چاق و لاغر باتوجه به دور سینه

ج- اندام نرمال با توجه به بلندی قد

د- جوانان و نوجوانان

۱۶۰-سایز.....را باعلامت اختصارینشان می دهد

الف- کوچک L

ب- متوسط S

ج- بزرگ S

د- بزرگ L

۱۶۱-مقدار پارچه مورد نیاز جهت دوخت کت مردانه چقدر می باشد ؟

الف- ۱۱ الی ۲متر

ب- ۱۱/۵ الی ۱۷/۰سانتی متر

ج- ۲ الی ۲/۵۰سانتی متر

د- ۲/۵ الی ۳متر

۱۶۲-الگوی کت شامل چه قسمت هایی می باشد؟

الف- پیش کت _ پشت کت _ تکه بغل _ استین دو تکه _ الگوی یقه

ب- الگوی جلو _ الگوی پشت _ تیره پشت _ استین یقه _ سجاف

ج- الگوی جلو _ الگوی پشت _ الگوی استین

د- الگوی جلو _ الگوی پشت _ الگوی استین _ الگوی یقه _ سجاف _ جادکمه

۱۶۳-هنگام چیدمان الگو روی پارچه به چه نکاتی باید دقت کرد؟

الف- راه و بی راه پارچه _ پشت پارچه

ب- طول و عرض پارچه و نقوش پایین پارچه

ج- طول و عرض پارچه و خواب پارچه

د- حاشیه دار بودن پارچه _ و جهت خواب

۱۶۴-موقع دوخت حلقه استین به حلقه بالاتنه حتما باید به.....دقت کرد که سر جای خود قرار بگیرد

الف- نقاط موازانه

ب- پشت و روی استین

ج- خرد خوردن استین

د- زاپاس دوخت

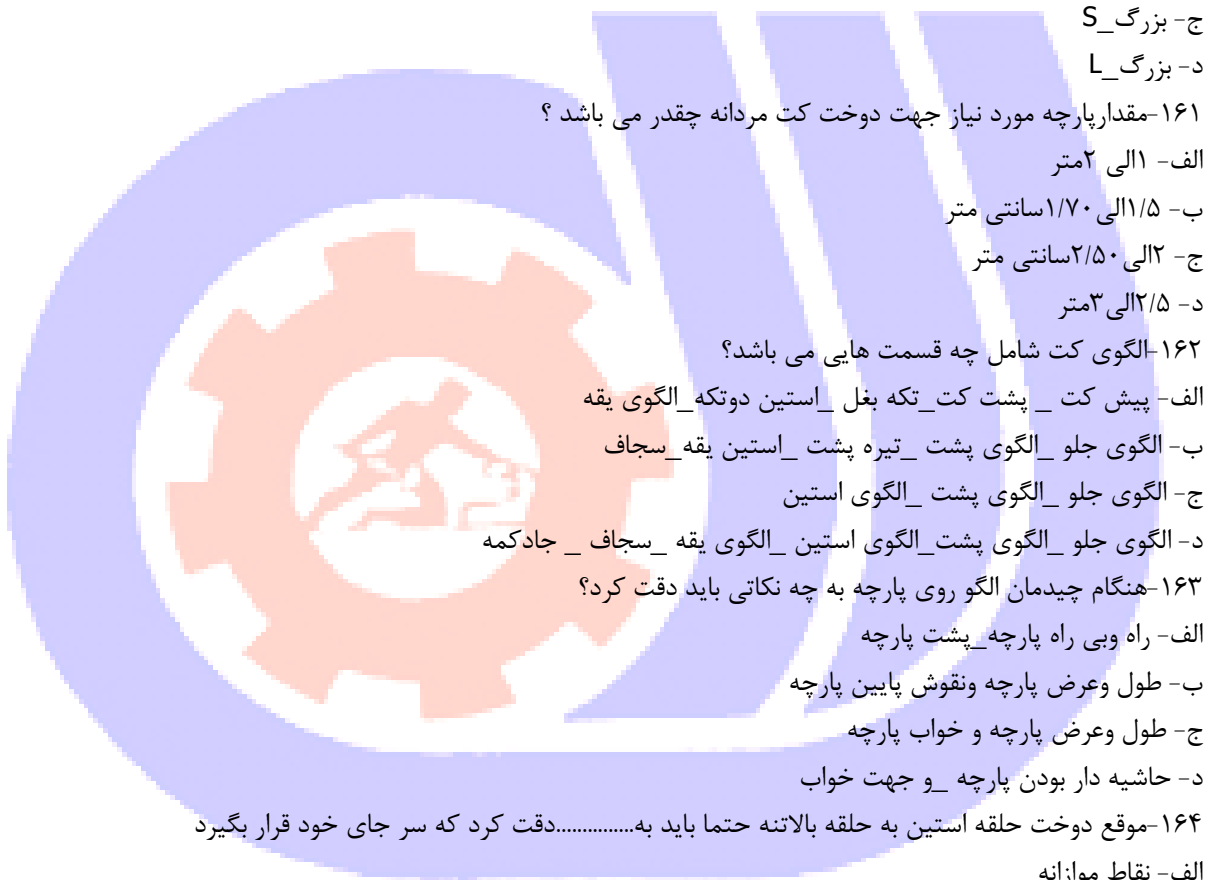
۱۶۵-نام دیگر اضافه درز چیست؟

الف- زاپاس

ب- ساسون

ج- یوک

د- نیل



۱۶۶- پارچه های ضخیم که به سرعت ریش می شود

الف- سر دوز می کنیم

ب- پس دوز می کنیم

ج- با قیچی دالبر برش می زنیم

د- لبه ها می سوزانیم

۱۶۷- در موقع برش پارچه هایی که چروک می شود چه موقع آن را اتو می زنیم؟

الف- قبل از برش پارچه را اتو می زنیم

ب- بعد از برش تکه های برش خورده را اتو می زنیم

ج- با اتو پرس حین برش اتو می زنیم

د- در حین دوخت قطعات به هم اتو می زنیم

۱۶۸- مل چیست؟

الف- گچ خیاطی

ب- خودکار خیاطی

ج- صابون خیاطی

د- بشکاف

۱۶۹- بهترین روش جهت علامت گذاری نقاط موازانه روی کار چیست؟

الف- انتقال با چرت

ب- باکاربن کپی می کنیم

ج- کوک شل می زنیم

د- باصابون خیاطی می کشیم

۱۷۰- الگوها را چگونه روی پارچه قرار می دهیم؟

الف- در عرض پارچه

ب- در اریب پارچه

ج- در راستای پارچه موازی با ترکی

د- در روی پارچه و به طرف عرض پارچه

۱۷۱- در نظر داشته باشید با اضافه شدن هر یک سایز به اندام به مصرف پارچه شما افزوده خواهد شد؟

الف- ۵درصد

ب- ۱۰درصد

ج- ۱۵درصد

د- ۲۵درصد

۱۷۲- در محاسبه مترای پارچه جهت دوخت کت اگر پارچه ساده باشد مقدار دارد.

الف- مصرف کمتری

ب- مصرف بیشتری

ج- با پارچه های دیگر فرقی ندارد

د- وزن پارچه تغییر می کند

۱۷۳- به طور کلی کدام دسته از پارچه ها مختصری اب می روند؟



الف- پارچه های نخى

ب- پارچه های مصنوعى

ج- پارچه های كه ۱۰ درصد الياف مصنوعى دارند

د- پارچه های كه ۶۵ درصد الياف مصنوعى دارند

۱۷۴- اين نوع لايى از هر دو به پارچه مى چسبد؟

الف- لايى حرير

ب- لايى زانفيكس

ج- لايى پرشيان

د- لايى خط دار

۱۷۵- قسمت هاى مهم كه بايد حتما نقاط موازانه رعايت شود کدام است؟

الف- سجاف پايين كت _ سر شانه

ب- يقه كت _ مچ پاكتى

ج- تيره پشت _ خط مركزى جلو

د- جادكمه _ خط تا يقه

۱۷۶- كيسه جيب كت از چه پارچه اى برش مى خورد؟

الف- از پارچه رويه كت

ب- از پارچه هم رنگ رويه كت

ج- از پارچه استرى

د- از پارچه رويه را لاي مى چسبانم

۱۷۷- چرا رنگ مشكى محبوب اكثر مشتريان است؟

الف- چون به رنگ كوچك كننده معروف است

ب- چون به رنگ بزرگ كننده معروف است

ج- رنگ مناسب و شادى است

د- با رنگ هاى ديگر ست مى شود

۱۷۸- يقه انگليسى روى کدام پارچه برش مى خورد؟

الف- پارچه استرى

ب- پارچه رويه اصلى

ج- پارچه استر را لاي مى چسبانيم

د- روى لايى برش مى زنيم

۱۷۹- کدام گزينه علامت اختصارى دولاي بسته پارچه مى باشد؟

الف- CF

ب- CB

ج- F

د- G

۱۸۰- الگويى كه لباس از روى ان برش شده و تمام اطلاعات لازم براى برش و دوخت ان نوشته شده چه نام دارد؟

الف- الگوى مادر



ب- الگوی اصلی

ج- الگوی نهایی

د- الگوی اولیه

۱۸۱- پهنای فیلتاب جیب کت چند سانتی متر است؟

الف- ۵ تا ۱ سانتی متر

ب- ۱ تا ۵/۱ سانتی متر

ج- ۷ تا ۵/۱ سانتی متر

د- ۲ تا ۳ سانتی متر

۱۸۲- دهانه جیب کت مردانه چند سانتی متر می باشد

الف- ۱۰ الی ۱۲ سانتی متر

ب- ۱۳ الی ۱۶ سانتی متر

ج- ۱۵ الی ۱۷ سانتی متر

د- ۱۸ الی ۲۰ سانتی متر

۱۸۳- اندازه کیسه جیب کت چگونه گرفته می شود؟

الف- کف دست فرد + ۲ تا ۵ سانتی متر

ب- از نوک انگشت شصت تا مچ + ۲ سانتی متر

ج- متر را دور دست چرخانده اندازه می زنیم + ۵ سانتی متر

د- معمولا ۱۳ الی ۱۶ سانتی متر در نظر می گیریم

۱۸۴- معمولا اندازه کیسه جیب کت چند سانتی متر است؟

الف- ۱۲ تا ۱۴ سانتی متر

ب- ۱۶ تا ۱۸ سانتی متر

ج- ۱۸ تا ۲۰ سانتی متر

د- ۲۰ تا ۲۲ سانتی متر

۱۸۵- اگر بخواهیم یک طرف کت روی استر جیب داخلی بدوزیم جیب را کدام طرف می دوزیم؟

الف- طرف راست کت

ب- طرف چپ کت

ج- چپ راست را جیب می دوزیم

د- روی استر نمی توان جیب دوخت

۱۸۶- جیب داخلی روی استر را به کدام قسمت کت می دوزیم؟

الف- به دو طرف کت جیب می دوزیم

ب- به یک طرف کت جیب می دوزیم

ج- روی استر جیب نمی دوزیم

د- به طرف راست کت جیب می دوزیم

۱۸۷- اگر بخواهیم یک طرف استر کت را جیب بدوزیم به طرف می دوزیم چون اکثر

الف- چپ_ آقایان راست دست هستند و از طرف چپ استفاده می کنند

ب- راست_ آقایان چپ دست هستند و از طرف چپ استفاده می کنند

ج- چپ_اقایان چپ دست هستند و از طرف راست بیشتر استفاده می کنند
د- راست_اقایان چپ دست هستند و از طرف چپ بیشتر استفاده می کنند
۱۸۸- ساسون کمر برای آقایانو برای باز کردن آن ازاستفاده می کنیم

الف- پهن_قیچی

ب- پهن بشکاف

ج- باریک_قیچی

د- باریک_بشکاف

۱۸۹- دوخت کاپ استین به حلقه استین بالاتنه کت به چه صورت است؟

الف- حلقه استین بالاتنه و کاپ استین باید به یک اندازه باشد

ب- حلقه استین بالاتنه از کاپ استین بزرگتر می باشد

ج- کاپ استین بزرگتر از حلقه استین است و موقع وصل کردن باید خرد بخورد

د- کاپ استین در موقع دوخت باید چین های ریزی داده شود

۱۹۰- به طور معمول نقطه شروع تا یقه انگلیسی کت مردانه چگونه رسم می شود؟

الف- از خط کمر ۵سانتی متر پایین تر می رویم

ب- از خط کمر ۴سانتی متر بالاتر می رویم

ج- روی خط سینه

د- از خط سینه ۲سانتی متر بالا تر می رویم

۱۹۱- لایی کاغذی خط دار را به کدام قسمت کت وصل می کنیم؟

الف- سجاف یقه_کیسه جیب_پایین استین

ب- فیلتاب جیب_سجاف یقه_وسط پشت

ج- رویه پشت و پهلو_کیسه جیب

د- پایین استین_قسمت چاک_پایین پشت و پهلو

۱۹۲- به لبه پایین رویه استین و چاک کت چند سانتی متر لایی می چسبانیم؟

الف- ۵تا۷سانتی متر

ب- ۱تا۲سانتی متر

ج- ۱۰سانتی متر

د- ۳سانتی متر

۱۹۳- برای پایین رویه استین و چاک کت از کدام نوع لایی استفاده می کنیم؟

الف- لایی خط دار

ب- لایی کاغذی

ج- لایی مویی

د- لایی حریر

۱۹۴- درچه پارچه های نمی توان الگوها را سروته انداخت؟

الف- پیچازی منظم

ب- پیچازی نامنظم

ج- پارچه های راه راه



د- پارچه مخمل

۱۹۵- استفاده از پارچه های پیچازی شخص را.....؟

الف- لاغر تر از آنچه که هست جلوه می دهد

ب- چاق تر از آنچه هست نشان می دهد

ج- همه کس می تواند از پارچه پیچازی استفاده کند

د- لاغر تر و باریک تر نشان می دهد

۱۹۶- پنس کمر کت را چگونه اتو می زنیم؟

الف- پنس را از وسط باز کرده و به دو طرف اتو می زنیم

ب- باقیچی پهنای پنس را چیده و اتو می زنیم

ج- پنس را به یک طرف خوابانده و اتو می زنیم

د- پنس را به درز انتقال داده و اتو می زنیم

۱۹۷- اصطلاح تیپ چیست؟

الف- هیکل

ب- پاترون

ج- تاک

د- تراک

۱۹۸- هنگام خرید نخ باید دقت کرد.....؟

الف- رنگ نخ هم رنگ پارچه باشد

ب- رنگ نخ کمی کم رنگ تر از رنگ پارچه باشد

ج- رنگ نخ مخالف رنگ پارچه باشد

د- رنگ نخ قدری پرنگ تر از رنگ پارچه باشد

۱۹۹- سرشانه پشت کت.....بزرگ تر از سر شانهمی باشد.

الف- ۱ تا ۱/۵ سانتی متر_ جلو

ب- ۱ تا ۲ سانتی متر_ جلو

ج- ۱/۵ تا ۲ سانتی متر_ پشت

د- ۲ تا ۳ سانتی متر_ پشت

۲۰۰- باتوجه بهپارچه را قبل از برش آماده می کنیم

الف- جنس

ب- طرح

ج- مدل

د- ابرفت

۲۰۱- نحوه محاسبه پارچه مورد نیاز کت به چه صورت است؟

الف- اندام_مدل

ب- مدل_طرح پارچه

ج- مدل_سایز

د- اندام_الگو رسم شده



۲۰۲- برای پارچه های ضخیم از سوزن شماره.....و برای پارچه های با ضخامت متوسط از سوزن شماره.....استفاده می کنیم

الف- ۱۱الی ۱۴ و ۱۱الی ۹

ب- ۱۲الی ۱۴ و ۱۴الی ۱۶

ج- ۱۱الی ۱۲ و ۱۴الی ۱۴

د- ۱۰الی ۱۲ و ۹الی ۱۱

۲۰۳- از کدام دوخت برای اتصال دائم نکه های لباس استفاده می شود؟

الف- کوک جسته

ب- بخیه

ج- کوک ساده

د- زیگزاگ

۲۰۴- ماشین سردوز را در فارسی اصطلاحاًمی نامند.

الف- میانه دوز

ب- اورلوک

ج- زیگزاگ

د- راسته دوز

۲۰۵- کدام دسته سوزن دستی می باشد؟

الف- سه گوش _ژوردوزی_استرچ

ب- دوقلو _منجوق دوزی _کوبلن دوزی

ج- شارپ _بیتوین

د- بیتوین_دوقلو

۲۰۶- خطی که یقه از آن (تا) می خورد و برمیگردد .

الف- خط شکست

ب- خط جادکمه

ج- برگردد یقه

د- دکلته یقه

۲۰۷- نام دیگر پهنا یقه چیست؟

الف- خط تا

ب- خط شکست

ج- خط طرح

د- برگرد یقه

۲۰۸- نام دیگر کت.....است؟

الف- بلوز مردانه

ب- پنل

ج- تایور

د- بارانی

۲۰۹- ساسون سر شانه پشت در کت تبدیل بهمی شود

الف- چین

ب- خرد

ج- پیلی

د- فتیله

۲۱۰- به برش های ساده در اضافه درزها چه می گویند؟

الف- کلیپ

ب- یوک

ج- چرت

د- پل

