



نمونه سؤالات:

کوتاه کردن مو با زوایای مختلف

با قیچی در پیرایش مردانه

کد استاندارد: ۵۱۴۱۲۰۵۷۰۰۵۰۰۹۱

معاونت پژوهش، برنامه ریزی و سنجش مهارت

دفتر سنجش مهارت و صلاحیت حرفه ای

۱- قیچی دنداندار با دندانهای نزدیک به هم لایه های مو را.....می نماید.

الف - بیشتر کوتاه

ب - کمتر کوتاه

ج - فرم دهی

د - کات

2- قیچی اسکلاب با دندانهای دور از هم لایه های مو رامی نماید.

الف - بیشتر کوتاه

ب - کمتر کوتاه

ج - فرم دهی

د - کات

3- بطور کلی قیچی دنداندار به چند دسته تقسیم می شود؟

الف - ۶

ب - ۴

ج - ۳

د - ۲

4- پیرایشگر در چه مواقعی انتهای ساقه مورا با قیچی اسکلاب کات می نماید؟

الف - حجم دهی

ب - کم حجم کردن

ج - تغییر فرم

د - فرم دهی

5- برای کم حجم کردن لایه های کمتر مو کدامیک از قیچی های گزینه های زیر مناسب است؟

الف - یک طرفه

ب - دو طرفه

ج - دندانهای نزدیک به هم

د - دندانهای دور از هم

6- در برکارگیری تکنیک کارتکمیلی با قیچی دنداندار پیرایشگر کدام قسمت از ساقه مو را قطع می نماید؟

الف - نوک

ب - یک سانت مانده به نوک

ج - یک سوم مانده به نوک

د - وسط

7- بعد از پیرایش مو، پیرایشگر با کدامیک از ابزارهای گزینه های زیر می تواند عملیات کارتکمیلی را در سطح مو انجام دهد؟

الف - قیچی صاف سلمانی

ب - قیچی دنداندار

ج - تیغ



د - ماشین

8-هدف از بکار گیری قیچی دنداندار در نوک موها کدامیک از گزینه های زیر می باشد؟

الف -محو کردن خط برش

ب -دنداندار کردن نوک مو

ج -تغییر شکل سطح مو

د -بیضی کردن سطح مو

9-برای حجم دهی موها پیرایشگر کدامیک از تکنیک های گزینه های زیر استفاده می نماید؟

الف -شلوغ

ب -سایشی

ج -پوش دادن

د -میمیکروکات

10-تفاوت قیچی دنداندار ازهم کدامیک از گزینه های زیر می باشد؟

الف -فاصله دنداندارها / جنس قیچی

ب -فاصله دنداندارها / شکل تیغه

ج -سایز قیچی / فاصله دنداندارها

د -سایز قیچی /جنس قیچی

11-شکل برش های سطح مو در بکارگیری قیچی دنداندار کدامیک از شکل های گزینه های زیر است؟

الف -گرد

ب -بیضی

ج -دنداندار

د -صاف

12-صرف نظر از فاصله دنداندارهای قیچی اسکالاب با هم دیگر چه تفاوت مهمی می توانند این نوع قیچی ها با هم داشته باشند؟

الف -سایز

ب -جنس

ج -شکل تیغه

د -وزن

13-در کات مو با قیچی دنداندار شکل سطح برش مو مربوط به کدامیک از گزینه های زیر می باشد؟

الف -نوع قیچی

ب -شکل تیغه

ج -طرز دست گرفتن قیچی

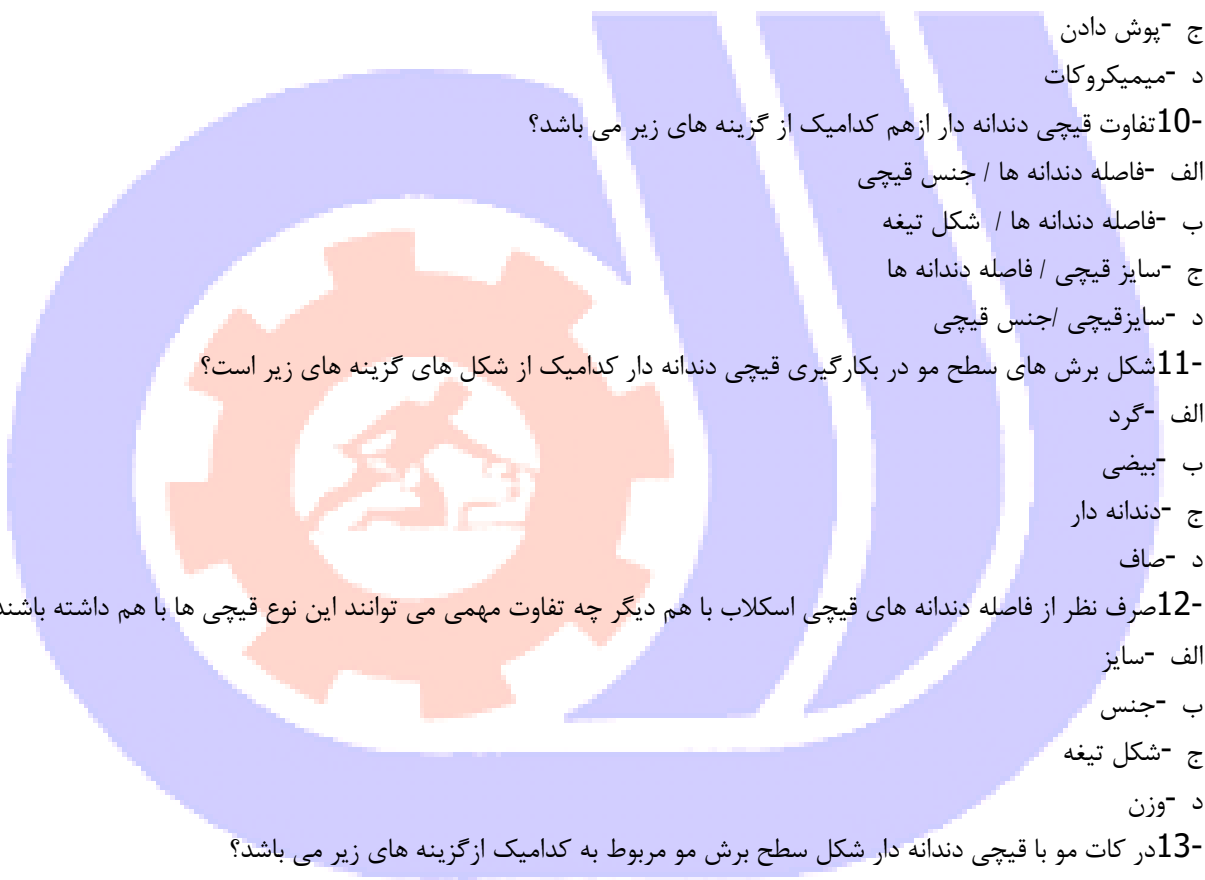
د -چگونگی کنترل لایه های مو

14-پیرایشگر بمنظور دنداندار نمودن نوک موها قیچی اسکالاب را در کدام قسمت ساقه بکار می برد؟

الف -انتها

ب -وسط

ج -نیم سانت پائین تر از نوک



د - نوک

15- پیرایشگر بعد از کوتاهی موبرای محو خط برش قیچی با کدامیک از ابزارهای گزینه های زیر موها را می تواند محو نماید؟

الف - ماشین

ب - شانه الحاقی

ج - قیچی دنداندار

د - تیغ

16- زمانی که پیرایشگر قیچی دنداندار را بصورت نامنظم از جهات مختلف وارد لایه های مو می نماید از کدامیک از تکنیک های گزینه های زیر استفاده می کند؟

الف - میمیکروکات

ب - شلوغ

ج - توزنی

د - تنظیم

17- کدامیک از ابزارهای پیرایشی زیر جهت حجم دهی مو مورد استفاده قرار می گیرد؟

الف - ماشین

ب - تیغ

ج - قیچی صاف سلمانی

د - قیچی دنداندار

18- کوتاه کردن مو با قیچی صاف برای ترسیم خطوط دور سر مورد استفاده می باشد؟

الف - بله

ب - خیر

ج - در مرحله نهایی

د - در بعضی از مدل ها

19- در کوتاهی موی سر با قیچی اولین مرحله کار کدامیک از گزینه های زیر می باشد؟

الف - راهنما گیری

ب - زاویه

ج - تقسیم بندی

د - جدا سازی دسته مو

20- با کدامیک از زاویه های گزینه های زیر می توان با قیچی صاف سلمانی موها را پیرایش کرد؟

الف - ۱۸۰ الی ۰

ب - ۹۰ الی ۰

ج - ۴۵ الی ۹۰

د - ۴۵ الی ۱۸۰

21- پیرایشگر بعد از تقسیم بندی موی سر بمنظور اینکه کنترل موها را در زمان کوتاهی آسانتر نماید کدامیک از گزینه های زیر را بکار می گیرد؟

الف - موها را خیس می کند

ب - سشوار می کشد

ج - ساختار مو را ترسیم می کند

د - لایه های مورا دسته بندی می کند

22- در پیرایش موی سر پیرایشگر با کدامیک از گزینه های زیر زاویه کوتاهی را در نظر می گیرد؟

الف - خط فرم

ب - ترسیم خطوط

ج - لایه مو نسبت به منحنی سر

د - منحنی سر نسبت به قیچی

23- در کوتاهی موی سر اگر دوطرف سر با هم هماهنگ نباشند کدامیک از گزینه های زیر به آن اطلاق می شود؟

الف - قرینه

ب - نامتقارن

ج - متوازن

د - مسطح

24- در پیرایش موی سر با قیچی و کنترل دسته موها با کمک انگشتان دست چند حالت وجود دارد؟

الف - ۴

ب - ۳

ج - ۲

د - ۱

25- در پیرایش موی سر چند نوع راهنما گیری وجود دارد؟

الف - ۶

ب - ۵

ج - ۳

د - ۲

26- در پیرایش موی سر هنگامی که یک لایه مو به عنوان راهنما انتخاب شده و همه دسته موها به طرف آن هدایت می شوند

کدامیک از روشهای راهنما گیری اطلاق می شود؟

الف - ثابت

ب - متحرک

ج - متقارن

د - نامتقارن

27- پیرایشگر برای حالت دادن به موها کدامیک از گزینه های زیر استفاده می نماید؟

الف - لایه بندی کردن

ب - سشوار

ج - استفاده از محصولات آرایشی

د - فرم دهی با ژل

28- آیا با قیچی صاف سلمانی می توان موها را لایه لایه کرد؟

الف -بله

ب -خیر

ج -بستگی به جنس مو دارد

د -بستگی به اندازه طولی مو دارد

29- کدامیک از گزینه های زیر زاویه صفر درجه محسوب می شود؟

الف -عمود بر منحنی سر

ب -مماس بر منحنی س

ج -قیچی برروی شانه

د -کنترل دسته موبا انگشتان دست

30- در اجرای برش های شیاری برروی سطح مو باکمک قیچی مقدار لایه بندی فعال شده در سطح موبه کدامیک از عوامل زیر مربوط می شود؟

الف -جنس مو

ب -حالت مو

ج -میزان باز بودن دهنه قیچی

د -زاویه قیچی

31- در پیرایش موی سر با قیچی صاف سلمانی اگر پیرایشگر بخواهد تغییری در شکل سطح موهای برش خورده ایجاد نماید کدامیک از گزینه های زیر را می تواند بکارگیرد؟

الف -تعویض نوع قیچی

ب -تغییر در زاویه قیچی

ج -تنظیم نهائی

د -لانگشتی

32- در کوتاهی موهای بلند با زاویه ۹۰ درجه در قسمت بالای سر، پیرایشگر جهت تقسیم بندی و راهنما گیری کدامیک از روشهای زیر را بکار می گیرد؟

الف -خط مستقیم عمود از فاصله بین دوا برو

ب -از تاج سر به طرفین

ج -منطقه یک موها به سمت جلو شانه می شود

د -لایه های مو در بالای سر افقی تقسیم بندی می شود

33- در کوتاهی یکنواخت راهنماگیری با کدامیک از خط طرح گزینه های زیر انجام می شود؟

الف -ثابت

ب -متحرک

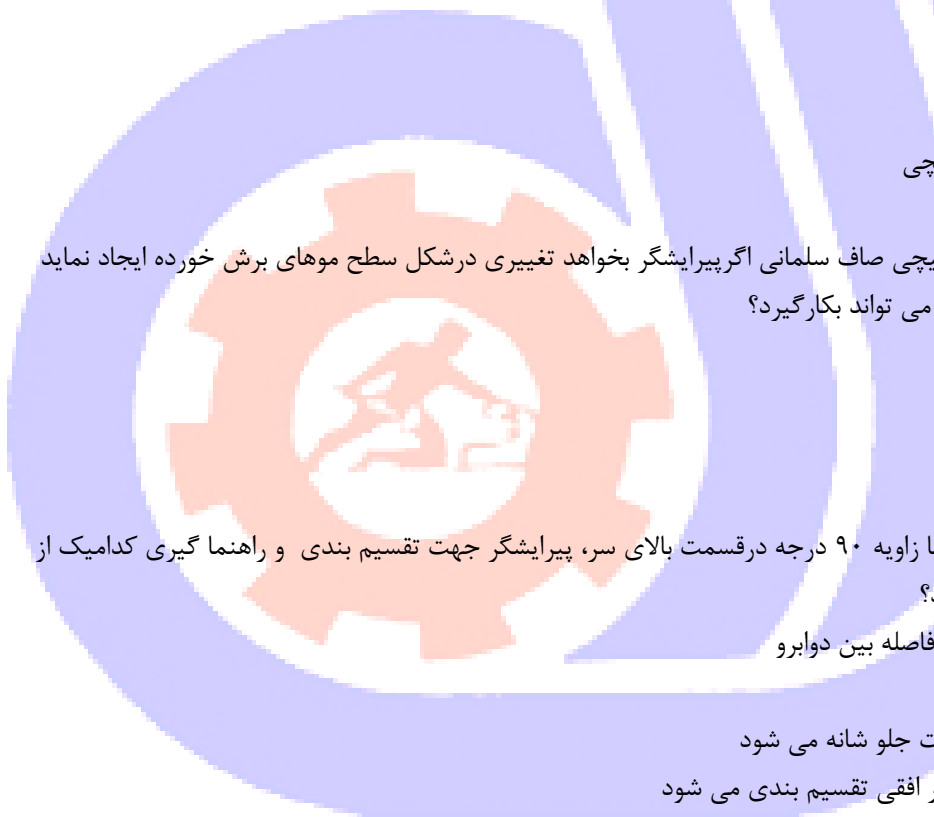
ج -متقارن

د -نامتقارن

34- در کوتاهی موی سر با لایه بندی یکنواخت، اندازه طول موها کدامیک از گزینه های زیر می باشد؟

الف -بلند

ب -کوتاه



ج - یکسان

د - رونده

35- در کوتاهی مو با روش یکنواخت شکل اغلب لایه بندی در این مدل کدامیک از گزینه های زیر می باشد؟

الف - فعال

ب - غیر فعال

ج - فرفعال

د - فر غیر فعال

36- در کوتاهی مو با زاویه ۹۰ درجه استفاده از زاویه نادرست چه تاثیری در فرآیند کوتاهی موها خواهد داشت؟

الف - شکل سطح موها گرد می شود

ب - شکل سطح موها بیضی می شود

ج - اندازه طولی موها مساوی

د - اندازه طولی مو نامساوی

37- تعریف لایه بندی در پیرایش مو کدامیک از گزینه های زیر می باشد؟

الف - چگونگی قرار گرفتن دسته موها بر روی هم را لایه بندی گویند

ب - دسته های کوتاه شده مو با زاوایای مختلف را لایه بندی گویند

ج - ایجاد شیب در کوتاهی مو

د - کاستن از اندازه طولی مو

38- در کوتاهی موی سر با زاویه ۹۰ درجه اغلب لایه های جدا شده مو با چه زاویه ای کنترل می شود؟

الف - کلیس

ب - شانه

ج - انگشتان دست

د - بیگودی

39- در پیرایش موی سر با روش افزایشی بخش خارجی سر از بخش داخلی موی سر می باشد.

الف - مساوی

ب - نامتقارن

ج - کوتاهتر

د - بلندتر

40- کسانی که مایل نیستند بلندی قد موهایشان کوتاه شود شما کدامیک از روش های کوتاهی را پیشنهاد می کنید؟

الف - افزایشی

ب - یکنواخت

ج - مدرج

د - مسطح

41- در پیرایش موی سر با روش افزایشی خط راهنمایی با کدامیک از گزینه های زیر تعیین می شود؟

الف - متحرک

ب - ثابت

ج -مرزی

د -فضای

42- در کوتاهی موی با روش افزایشی چه نوع لایه بندی را بوجود می آورد؟

الف - نامتقارن

ب - متقارن

ج - فعال

د - غیر فعال

43- پیرایش مو با روش افزایشی مناسب کدامیک از افراد گزینه های زیر می باشد؟

الف - کسانی که مایل نیستند قد موهای شان کوتاه شود

ب - کسانی که مایل نیستند قد موهای شان بلند باشد

ج - کسانی که مایل نیستند جلو موهای شان بلند باشد

د - کسانی که مایل نیستند جلو موهای شان کوتاه شود

44- در پیرایش موی سر با روش افزایشی دسته موها با کدامیک از گزینه های زیر کنترل می شوند؟

الف - قیچی

ب - شانه

ج - کلمپس

د - انگشتان دست

45- در کوتاه کردن موی سر با روش افزایشی اکثر اوقات از تکنیک لایه بندی تبدیلی استفاده می گردد در اجرای این تکنیک از چه

نوع راهنمایی استفاده می گردد؟

الف - متقارن

ب - ثابت

ج - متحرک/ ثابت

د - متقارن/ نامتقارن

46- شکل مدل مو در کوتاهی باروش مدرج به کدامیک از شکل های گزینه های زیر تبدیل می شود؟

الف - مثلث

ب - کشیده

ج - چهار گوش

د - گرد

47- عمده تفاوت مدل موهایی که با روش مدرج کوتاه می شوند چیست؟

الف - نوع مدل

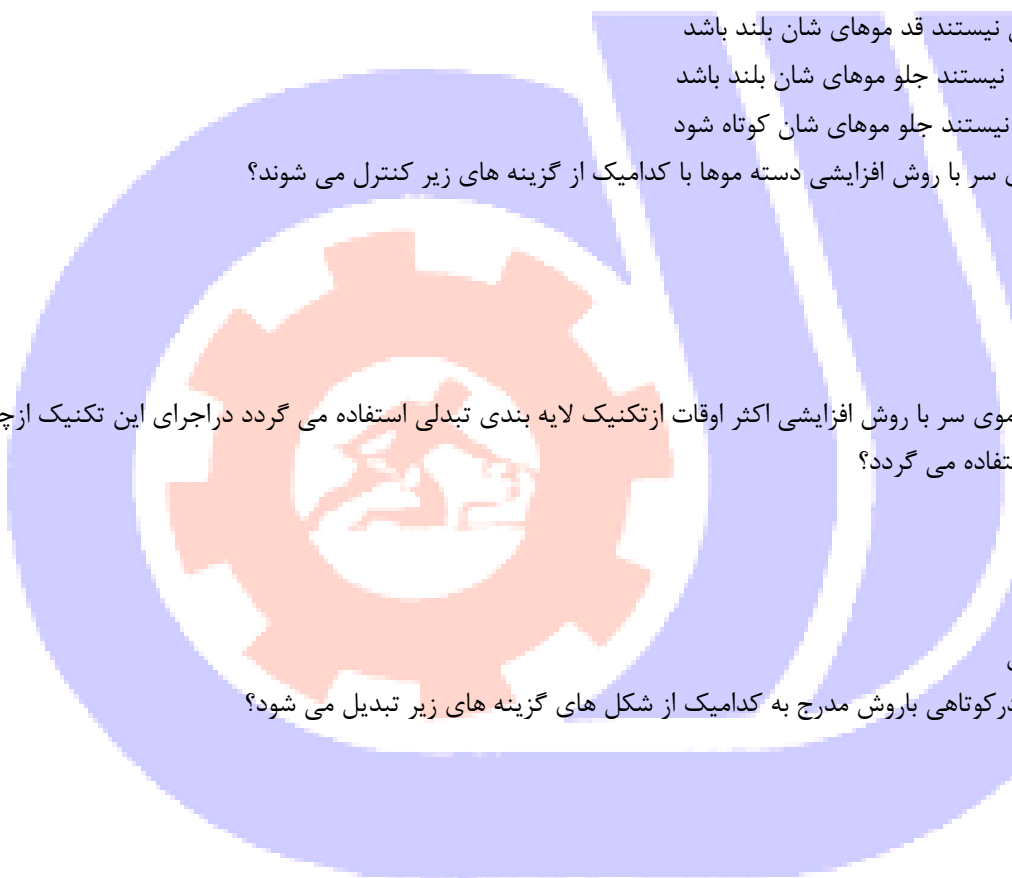
ب - اندازه طولی مو

ج - مراحل کار

د - میزان شیب در کوتاهی

48- تکنیک کف به کف اغلب در کدامیک از روش های کوتاهی اجراء می شود؟

الف - افزایشی



ب - مدرج

ج - یکنواخت

د - مسطح

49- در کوتاهی موبا روش مدرج کدامیک از خط طرح های گزینه های زیربکار می رود؟

الف - متحرک

ب - ثابت

ج - متقارن

د - نامتقارن

50- زاویه میانه در کوتاهی مدرج چند است؟

الف - ۴۵

ب - ۹۰

ج - ۱۲۰

د - ۱۳۵

51- در کوتاهی موبا روش مدرج وزن در کدام ناحیه قرار می گیرد؟

الف - خط مرزی

ب - خط فضای

ج - بخش داخلی

د - بخش خارجی

52- در کوتاهی کدامیک از جنس موهای گزینه های زیر که با تکنیک ۱۸۰ درجه کوتاه می شود باید دقت بیشتری نمود تا بعد

از کوتاهی موها کوتاه تر جلوه نکند؟

الف - فر

ب - صاف

ج - ضخیم

د - نازک

53- در کوتاهی موی سر با تکنیک قیچی بر روی شانه پیرایشگر کدامیک از گزینه های زیر را جهت راهنما گیری استفاده می

نماید؟

الف - ثابت

ب - متحرک

ج - موازی

د - ناموازی

54- در کوتاهی موبا تکنیک قیچی بر روی شانه با زاویه ۱۸۰ درجه کدامیک از گزینه های زیر باید در نظر گرفته شود؟

الف - خیس بودن موها زمان کوتاهی

ب - خشک بودن موها زمان کوتاهی

ج - نرم بودن موها

د - کثیف بودن موها

55- کدامیک از ابزارهای گزینه های زیر برای تنظیم پازلفی (خط ریش) مناسب است؟

الف - ماشین

ب - موچین

ج - اسکلاب

د - تیغ

56- در آنکادر صورت چند خط را باید ترسیم کرد؟

الف - ۴

ب - ۳

ج - ۲

د - ۱

57- کدامیک از شکل های گزینه های زیر از نظر آرایشی چهره متعادل محسوب می شوند؟

الف - بیضی

ب - گرد

ج - مربع

د - مثلثی

58- در پیرایش مو با فرم صاف یکدست وضعیت استقرار سر چگونه باید باشد؟

الف - روبه پائین

ب - صاف مستقیم

ج - مایل

د - روبه بالا

59- مدل موئی که در قسمت بالای سر یکنواخت و به طرف پشت سر افزایش ، همچنین بغل های سر مدرج کوتاه شده مناسب کدام افراد است؟

الف - کسانی که موهای بلند را می پسندند

ب - کسانی که موهای کوتاه را می پسندند

ج - مناسب کسانی است که موهای کم پشت دارند

د - مناسب کسانی است که موهای پرپشت دارند

60- در مدرج بالا خط شیب می باشد.

الف - تند

ب - ملایم

ج - میانه

د - متوسط

61- پیرایشگر با استفاده از روش ترکیبی مسطح در بالای سر و مدرج در پیرامون سر کدامیک از مدل های گزینه های زیر را بوجود

می آورد؟

الف - کشیده

ب - گرد

ج - مربع

د - چهارگوش

62- درپیرایش مدل مو خامه ای از چه روش های استفاده می شود؟

الف - یکدست و افزایشی دربالا /مدرج دربخش خارجی

ب - یکدست دربالا /مدرج درپیرامون

ج - ۹۰ درجه دربالا /افزایشی درپشت /مدرج دربغلها

د - یکدست درپیرامون / افزایشی دربالا /یکدست درجلو

63- صفحه مناسب اتو مو کدامیک از گزینه های زیر باشد مناسب تر است؟

الف - فلزی

ب - آهنی

ج - سرامیکی

د - بدون روکش

64- برای اتو کشی موها باید..... باشد.

الف - شسته شده

ب - شسته نشده

ج - خشک

د - کثیف

65- برای فرم دادن موها با کمک اتو مو هر دسته مورا چند بار می توان اتو کشید؟

الف - ۶

ب - ۴

ج - ۳

د - ۲

66- جهت جلوگیری از آسیب دیدگی موها قبل از اتو کشی بکار گیری کدامیک از محصولات گزینه های زیر مناسب می باشد؟

الف - موس

ب - روغن

ج - ژل

د - واکس

67- بعد از اتو کشی موها برای ثابت نگه داشتن حالت مو کدامیک از محصولات زیر مناسب می باشد؟

الف - ژل

ب - واکس

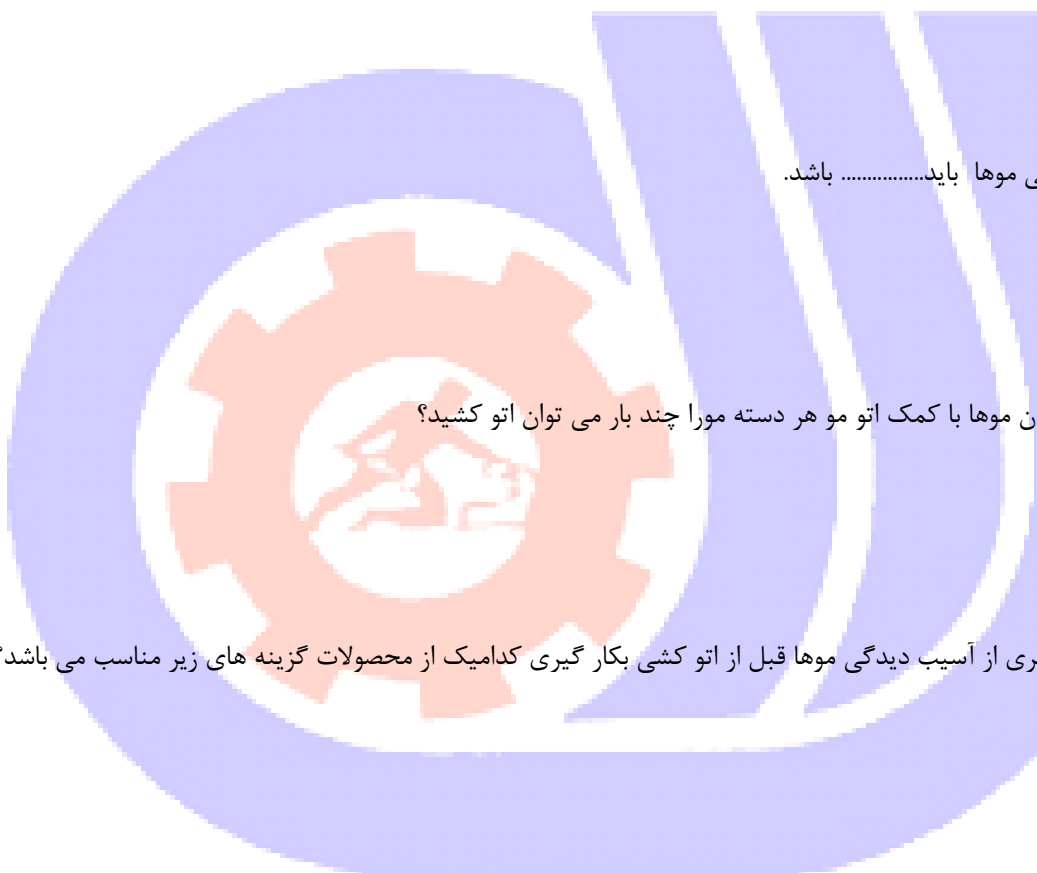
ج - موس

د - فیکساتور

68- برای فرم دهی موبعد از اتو کشی کدامیک از محصولات زیر مناسب است؟

الف - موس

ب - ژل واکس



ج - تافت

د - فیکساتور

69- در زمان اتو کشی مو پیرایشگر دسته موها را چگونه جدا می نماید؟

الف - کلیپس

ب - برس

ج - شانه

د - دست

70- ویژگی اتوی مناسب سالن آقایان کدامیک از گزینه های زیر می باشد؟

الف - ارتفاع مناسب سیم، صفحه پهن و درجه بالا

ب - صفحه پهن، سیم بلند و اتومات

ج - ارتفاع مناسب سیم، صفحه سرامیکی و درجه حداقل ۲۳۰

د - ارتفاع مناسب سیم صفحه سرامیکی حداقل درجه ۲۷۰

