



نمونه سؤالات:

**تحلیلگر بازارهای مالی وین
المللی**

کد استاندارد: ۲۴۱۳۴۰۴۵۰۰۱۰۰۰۱

معاونت پژوهش، برنامه ریزی و سنجش مهارت
دفتر سنجش مهارت و صلاحیت حرفه ای

۱- واحد حجم معاملات در ۴ رقم اعشار بر روی جفت ارزهای اصلی می باشد.

الف- پویت point

ب- اسپرد spread

ج- سوآپ swap

د- پیپ pip

۲- واحد حجم معاملات در ۵ رقم اعشار بر روی جفت ارزهای اصلی می باشد.

الف- پیپ

ب- اسپرد

ج- پوینت

د- سوآپ

۳- سوآپ چیست؟

الف- اختلاف خرید و فروش

ب- بهره شبانه

ج- کمسیون

د- قیمت جاری

۴- مارجین margin چیست؟

الف- میزان سرمایه درگیر در یک معامله

ب- اختلاف Bid, ask

ج- سرمایه اولیه

د- سرمایه آزاد

۵- لات lot چیست؟

الف- میزان سرمایه درگیر معامله

ب- سرمایه اولیه

ج- سرمایه آزاد

د- واحد حجم معاملات

۶- Bid می باشد.

الف- قیمت جاری

ب- بالاترین قیمت جاری

ج- سرمایه اولیه

د- کمسیون



۷-Spread..... می باشد.

الف- قیمت جاری

ب- بهره شبانه

ج- کمسیون

د- اختلاف بین Bid و ask

۸-هرم معاملاتی یا لوریج می باشد.

الف- اسپرد

ب- به میزان اعتباری که به سرمایه اولیه داده می شود

ج- بهره شبانه

د- اختلاف خرید و فروش

۹-انواع معاملات آنیمی باشد.

الف- خرید و فروش Buy و sell

ب- sell limit

ج- Buy limit

د- sell stop

۱۰-در معامله Buy حد سود

الف- پایین تر از قیمت جاری می باشد

ب- روی قیمت جاری می باشد

ج- بالای قیمت جاری می باشد

د- ندارد

۱۱-در معامله sell حد سود

الف- بالاتر از قیمت جاری می باشد

ب- پایین تر از قیمت جاری می باشد

ج- روی قیمت جاری می باشد

د- ندارد

۱۲-در معامله Buy حد سود و حد ضرر می باشد.

الف- بالاتر- پایین تر

ب- پایین تر - بالاتر

ج- پایین تر- پایین تر

د- بالاتر - بالاتر

۱۳-در معامله sell حد سود و حد ضررقرار می گیرد.


الف- بالاتر -پایین تر

ب- پایین تر و بالاتر

ج- پایین تر -پایین تر

د- بالاتر -بالاتر

۱۴-Buy stop.....



- الف- خرید روی قیمت جاری
 - ب- خرید پایین تر از قیمت جاری
 - ج- فروش پایین تر از قیمت جاری
 - د- خرید بالاتر از قیمت جاری
- ۱۵-معاملات Sell stop
- الف- فروش بالاتر از قیمت جاری
 - ب- فروش روی قیمت جاری
 - ج- فروش پایین تر از قیمت جاری
 - د- خرید پایین تر از قیمت جاری

۱۶- Stop loss

- الف- توقف خرید
- ب- توقف فروش
- ج- توقف سود
- د- توقف ضرر

۱۷-روند نزولی قیمت را می گویند.

- الف- بازار گاوی
- ب- بازار خرسی
- ج- بازار خنثی
- د- بازار swing

۱۸-تولید کننده یا فروشنده از کسب سود می کند.

- الف- بالا رفتن قیمت
- ب- پایین آمدن قیمت
- ج- تعادل قیمت
- د- ثبات قیمت

۱۹-مصرف کننده یا خریدار از کسب سود می کند.

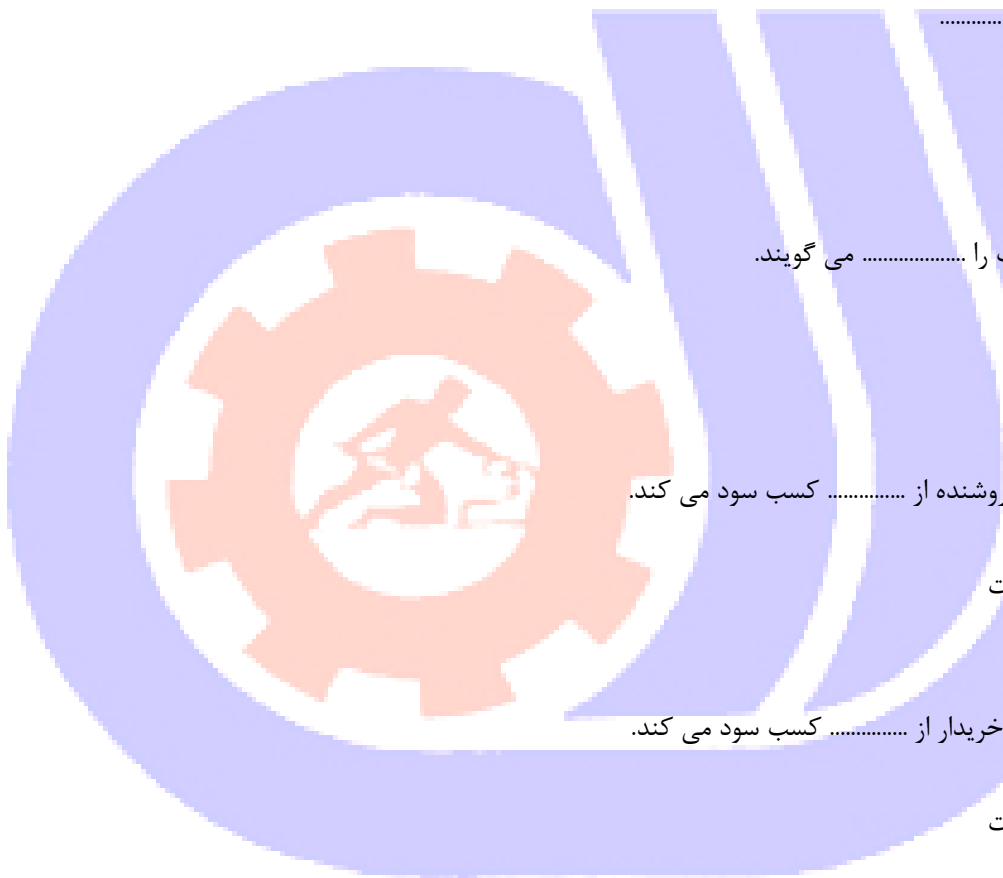
- الف- بالارفتن قیمت
- ب- پایین آمدن قیمت
- ج- تعادل قیمت
- د- ثبات قیمت

۲۰-واسطه ها با بالا رفتن قیمت

- الف- خرید می کنند
- ب- فروش می کنند
- ج- معامله نمی کنند
- د- ضرر می کنند

۲۱-تولید کننده یا فروشنده واقعی از بالا رفتن قیمت می کند.

الف- مقاومت



ب- حمایت و مقاومت

ج- حمایت

د- تقاضا

۲۲- مشتری به کارگزار یا معامله گر دستور می دهد که در قیمت کنونی بازار یا در قیمتی معین خرید یا فروش انجام دهد؟

الف- دستور یا order

ب- Trend

ج- Balance

د- Volume

۲۳- مبلغی که برای باز کردن یا باز ماندن یک پوزیشن معاملاتی لازم است؟

الف- مارجین یا security deposit

ب- فری مارجین

ج- deposit

د- Equity

۲۴- از تحلیل گران تکنیکی به عنوان یاد می شوند.

الف- فاندامنتالیست

ب- چارتیست

ج- تکنسین

د- کارگزار

۲۵- کامل ترین نمودار قیمت می باشد.

الف- نمودار شمعی

ب- نمودار خطی

ج- نمودار میله ای

د- نمودار نقطه و رقم

۲۶- تغییر نقش سطوح حمایت و مقاومت می تواند به عنوان باشد.

الف- شناسایی و تشخیص تغییر قیمت روند

ب- شناسایی روند

ج- نشانه ی کاهش قیمت

د- نشانه افزایش قیمت

۲۷- بهترین زاویه ی روندهای صعودی در قیمت شیب درجه می باشد.

الف- ۳۰ درجه

ب- ۵۰ درجه

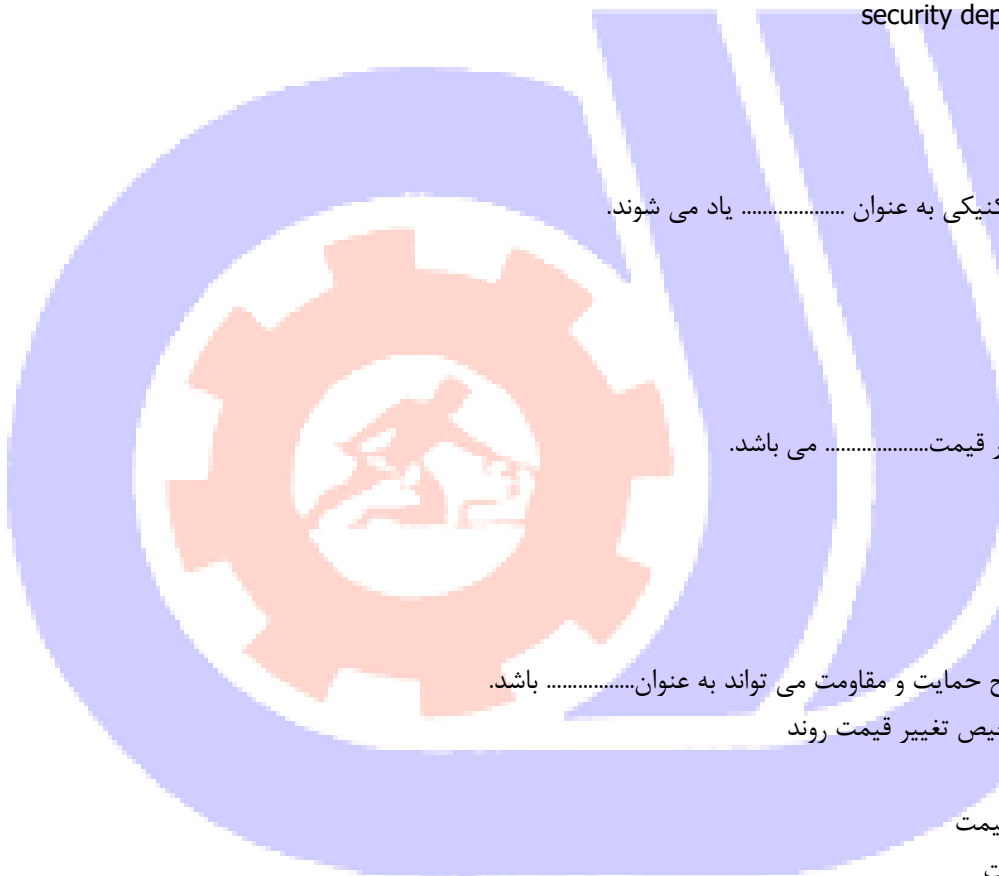
ج- ۴۵ درجه

د- ۹۰ درجه

۲۸- در معامله ی فروش با رسیدن قیمت به نقطه ی TP TP

الف- معامله در سود بسته می شود

ب- معامله را باید خودمان ببندیم



ج- باید به اندازه ی اسپرد بگذرد تا بسته شود

د- معامله خود به خود بسته می شود

۲۹- در معامله خرید به محض رسیدن قیمت به TP معاملهTP

الف- بسته می شود

ب- بسته نمی شود

ج- به اندازه اسپرد عبور نماید تا بسته شود

د- بهره گرفته می شود

۳۰- Sell limit.....می باشد

الف- فروش زیر قیمت جاری

ب- فروش روی قیمت جاری

ج- فروش بالاتر از قیمت جاری

د- خرید پایینتر از قیمت جاری

۳۱- بورس در اقتصاد کشور چه حکمی دارد؟

الف- افزایش حجم پول

ب- نبض اقتصاد

ج- کاهش اشتغال

د- افزایش واردات

۳۲- تحلیل بنیادی یعنی چه؟

الف- بررسی کندل ها

ب- بررسی روند

ج- تحلیل فیبوناچی

د- بررسی شاخص های اقتصادی

۳۳- الگوی EVENING STAR نشان دهنده ...

الف- تغییر روند قیمت از صعودی به نزولی است

ب- تغییر روند قیمت از نزولی به صعودی است

ج- ادامه روند

د- تغییر روند قیمت فقط صعودی است

۳۴- در الگوی SHOOTING STAR ...

الف- سایه بالایی بلندتر از سایه پایینی و حداقل دو برابر بدنه

ب- سایه پایینی بلندتر از سایه بالایی و حداقل دو برابر بدنه

ج- سایه ها هم اندازه است

د- سایه ندارد

۳۵- کدام یک از گزینه های زیر جز الگوهای ادامه دهنده نیست؟

الف- HUMMER

ب- WINDOW

ج- RING THREE METHODS



د- FALLING THREE METHOD

۳۶-در ENGULFING BULLISH...

الف- بدنه مهم است

ب- سایه مهم است

ج- رنگ بدنه سفید باشد

د- بدنه ندارد

۳۷-فاصله ایران تا GMT چند ساعت است؟

الف- ۲ ساعت

ب- ۴ ساعت

ج- ۳/۳۰ ساعت

د- ۵ ساعت

۳۸-با دستور کدام یک از رؤسای جمهور آمریکا قرارداد برتن وودز لغو شد؟

الف- ریگان

ب- جرج بوش

ج- هنری کیسینجر

د- نیکسون

۳۹-چهار کشور مهاجر نشین

الف- آمریکا، استرالیا، کانادا، نیوزلند

ب- آمریکا، انگلیس، هلند، دانمارک

ج- استرالیا، کانادا، ایسلند، انگلیس

د- برزیل، آرژانتین، شیلی، کوبا

۴۰-معیار سنجش پول های بین المللی می باشد.

الف- دلار آمریکا

ب- دلار کانادا

ج- دلار استرالیا

د- پوند انگلیس

۴۱-واحد پول کشور سوئیس؟

الف- CHF

ب- GBP

ج- EUR

د- NZD

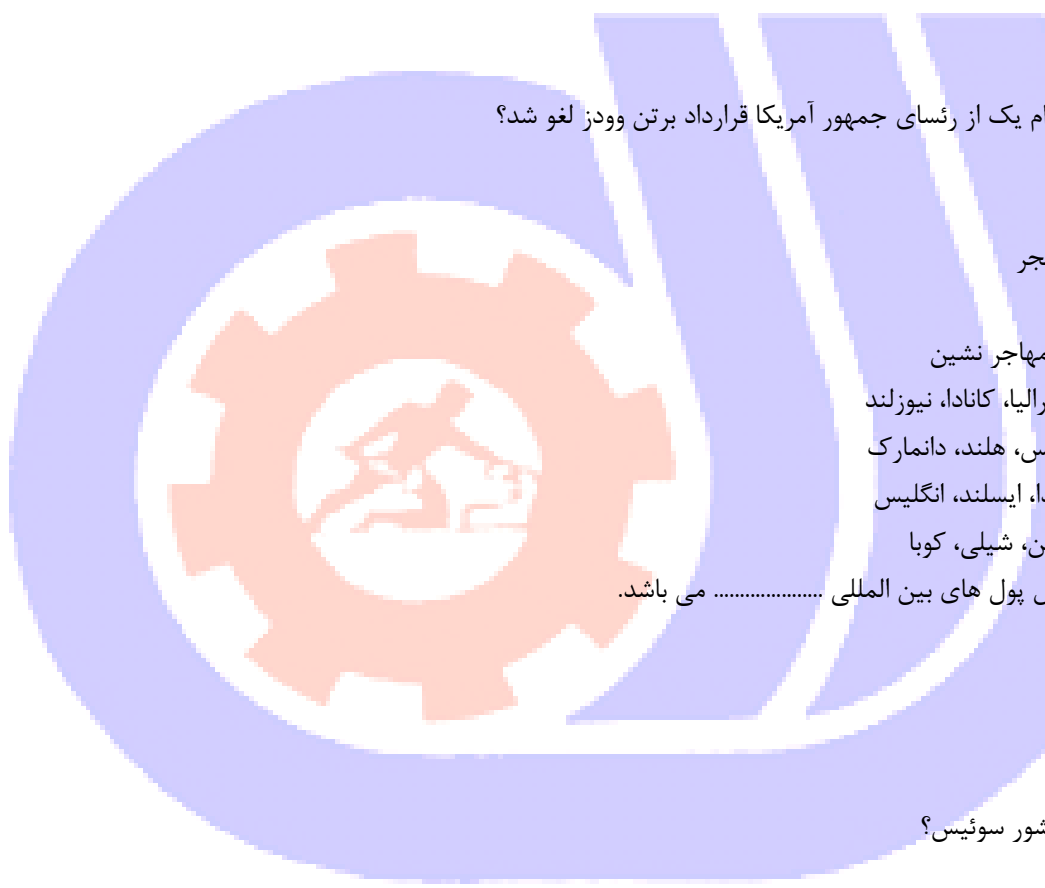
۴۲-خروج انگلستان از اتحادیه اروپا به معروف شد.

الف- برکزیت یا برکسیت

ب- برتن وودز

ج- قرارداد مونیخ

د- قرارداد آنکارا



۴۳- در سیستم نرخ ارز ثابت تعیین کننده ی نرخ آن می باشد.

الف- عرضه و تقاضا

ب- دولت و بانک مرکزی

ج- مردم

د- صندوق بین المللی پول

۴۴- تمایل و توانایی افراد یک جامعه در خصوص مصرف یک کالا در قیمت های مختلف و در یک زمان معین می باشد.

الف- تقاضا

ب- عرضه

ج- قدرت فروش

د- قدرت تولید

۴۵- افزایش قیمت باعث و افزایش عرضه می گردد.

الف- افزایش تعداد فروشندگان

ب- افزایش تعداد خریداران

ج- حالت خنثی

د- افزایش واسطه

۴۶- کاهش قیمت باعث در نتیجه باعث افزایش تقاضا می گردد.

الف- افزایش تعداد فروشندگان

ب- افزایش تعداد خریداران

ج- ایجاد شرایط خنثی

د- کاهش واسطه

۴۷- از افزایش قیمت فروشندگان دارند.

الف- سود

ب- ضرر

ج- عدم رغبت به تولید

د- عدم تمایل به فروش

۴۸- از کاهش قیمت خریداران دارد.

الف- عدم علاقه به خرید

ب- عدم علاقه به فروش

ج- سود

د- ضرر

۴۹- واسطه ها در بالا رفتن قیمت دارند که می توانند سود کسب کنند.

الف- خرید

ب- فروش

ج- تولید

د- عدم مصرف

۵۰- واسطه ها با پایین رفتن قیمت دارند.



الف- سود

ب- ضرر

ج- فروش

د- خرید

۵۱- تارگت های آینده ی فیبوناچی کدام یک درست نمی باشد؟

الف- ۱۶۲ درصد = ۳۸ درصد

ب- ۱۲۷ درصد = ۷۹ درصد

ج- ۱۱۳ درصد = ۸۸ درصد

د- ۱۲۷ درصد = ۶۲ درصد

۵۲- Bullish harami.....

الف- الگوی صعودی

ب- الگوی نزولی

ج- الگوی خنثی

د- الگوی ادامه دهنده

۵۳- کدام الگو به عنوان الگوی نزولی می باشد؟

الف- ستاره شامگاهی

ب- ستاره صبحگاهی

ج- چکشی

د- کف های یکسان

۵۴- کدام یک از الگوهای شمعی زیر به عنوان الگوی ادامه دار نمی باشد؟

الف- پنجره

ب- تاسوکی

ج- سه کندل برگشتی

د- پرچم

۵۵- کدام یک از شکاف های زیر درست نمی باشد؟

الف- شکاف فرار

ب- شکاف گریزان

ج- شکاف هفتگی

د- شکاف دستی

۵۶- کدام یک از شکاف ها همراه با افزایش حجم است؟

الف- شکاف فرار

ب- شکاف گریزان

ج- شکاف معمولی

د- شکاف خستگی

۵۷- الگوی سقف یکسان نشانه ی قوی بودن می باشد.

الف- مقاومت



ب- خرید

ج- فروش

د- عرضه

۵۸-معاملات سلف چیست؟

الف- پیش فروش

ب- پیش خرید

ج- معاملات آتی

د- آتی خرید

۵۹-این الگو دارای سایه و بدون بدنه می باشد.

الف- چکشی

ب- ستاره دنباله دار

ج- دوجی

د- چکشی معکوس

۶۰-در روند صعودی پایان موج اصلاحی ، شمع اول در درون شمع دوم جای می گیرد و نشان از صعود دارد.

الف- چکشی

ب- دوجی

ج- ستاره صبحگاهی

د- پوششی افزایشی

۶۱-اهمیت این الگو در یکسان بودن کف ها می باشد و در روند صعودی با عنوان نام دارد.

الف- Tweezer bottom

ب- Tweezer top

ج- Window

د- harami

۶۲-شمع دوم در درون شمع اول قرار دارد و نشانه صعود بازار.

الف- پوششی افزایشی

ب- ستاره صبحگاهی

ج- هارامی

د- چکشی

۶۳-در این الگو در روند نزولی ، شمع دوم پایین تر از LOW شمع قبل باز می شود و بالاتر از نیمه شمع اول بسته می

شود..... نام دارد.

الف- پوششی - افزایشی

ب- Tweezer bottom

ج- Piercing line

د- پوششی کاهشی

۶۴-الگوی ستاره صبحگاهی همان می باشد.

الف- evening star



ب- morning star

ج- Bullish Doji star

د- shooting star

۶۵- در این الگوی صعودی close شمع اول و دوم در یک نقطه همسان می باشد.

الف- Bullish meeting line

ب- Bearish meeting line

ج- Bullish Doji star

د- Bearish Doji star

۶۶- hanging man pattern

الف- الگوی صعودی

ب- الگوی خنثی

ج- الگوی نزولی

د- الگوی ادامه دهنده

۶۷- عمومی ترین و متداول ترین الگوی هارمونیک.....می باشد.

الف- $AB=CD$

ب- Gartly

ج- Butterfly

د- Bat

۶۸- در الگوی $AB=CD$ در وضعیت ایده آل نقطه C در ترازهای یا درصد فیبو Ret بازوی AB قرار دارد.

الف- ۵۰ درصد یا ۶۳ درصد

ب- ۲۵ درصد یا ۷۹ درصد

ج- ۶۱ و ۸۰ دهم درصد یا ۷۸ و ۶ دهم درصد

د- ۷۷ درصد یا ۹۰ درصد

۶۹- الگوی گارتلی.....نقطه اساسی دارد.

الف- ۵ نقطه

ب- ۳ نقطه

ج- ۴ نقطه

د- ۶ نقطه

۷۰- بزرگترین بازوی گارتلیمی باشد.

الف- AB

ب- BC

ج- XA

د- CD

۷۱- یکی از مهم ترین ترازهای الگوی گارتلی تکمیل نقطه D در ترازحرکت XA می باشد.

الف- ۵۰ درصد

ب- ۴۲ درصد

ج- ۷۹ درصد

د- ۲۶۲درصد

۷۲-در الگوی گارتلی جهت تعیین حد سود، هدف اول ترازتا.....درصد فیبو Ret فاصله CD

الف- ۸۸ درصد تا ۹۰ درصد

ب- ۴۲ درصد تا ۵۰ درصد

ج- ۵۱ درصد تا ۹۹ درصد

د- ۶۲ درصد تا ۷۹ درصد

۷۳-الگوی Butterfly همان الگویمی باشد.

الف- گارتلی

ب- خفاش

ج- خرچنگ

د- پروانه

۷۴-یکی از مشخصه های مهم این الگو ، دارای بلندترین بازوی D-Cاست.

الف- خرچنگ

ب- گارتلی

ج- خفاش

د- پروانه

۷۵-در الگوی پروانه هدف دوم TP نقطهمی باشد

الف- D

ب- C

ج- A

د- X

۷۶-مهم ترین تفاوت الگوی گارتلی و پروانه در مکان تشکیل نقطهمی باشد.

الف- A

ب- B

ج- C

د- D

۷۷-نقطه.....می تواند بعنوان نقطه PRZ باشد.

الف- A

ب- D

ج- X

د- C

۷۸-یکی از مهم ترین ترازهای الگوی خفاش تکمیل نقطه D در تراز.....حرکت XA می باشد.

الف- ۵۰ درصد

ب- ۴۲ درصد

ج- ۶۲ درصد

د- ۸۸ درصد

۷۹- در موج رانش، موج بلندترین و قدرتمندترین موج است.

الف- ۲

ب- ۳

ج- ۵

د- ۱

۸۰- ساختار داخلی موج قطری نوع ۱ می باشد.

الف- ۳-۳-۳-۳-۳

ب- ۳-۵-۳-۵-۳

ج- ۳-۵-۳-۳-۳

د- ۲-۵-۳-۲-۳

۸۱- در امواج اصلاحی ساختار زیگزاگ ساده می باشد.

الف- ۵-۳-۵

ب- ۳-۳-۳

ج- ۵-۵-۵

د- ۳-۵-۳

۸۲- در زیگزاگ مضاعف موج X ساختار دارد.

الف- ۵ تایی

ب- ۲ تایی

ج- ۳ تایی

د- افزایشی

۸۳- امواج اصلاحی موج ترکیبی نشانه حالت می باشد.

الف- خنثی

ب- ترند

ج- روند دار

د- Gap

۸۴- خبر NFP متعلق به کدام کشور است؟

الف- ژاپن

ب- آمریکا

ج- کانادا

د- انگلیس

۸۵- FOMC خبری است که در مورد اعلام می شود.

الف- تولید ناخالص داخلی

ب- تولید خالص داخلی

ج- تراز تجاری

د- نرخ بهره



۸۶- شاخص بهای مصرف کننده همان می باشد.

الف- GDP

ب- CPI

ج- TIC

د- PPI

۸۷- تاثیر کوتاه مدت نرخ بهره بر روی ارز می باشد.

الف- مستقیم

ب- غیرمستقیم

ج- بی تاثیر

د- کم اهمیت

۸۸- پراهمیت ترین خبرها به رنگ نشان داده می شوند.

الف- سفید

ب- آبی

ج- قرمز

د- زرد

۸۹- رئیس بانک مرکزی اروپا در سال ۲۰۱۷ می باشد.

الف- برنانکی

ب- یلن

ج- دراگی

د- رایس

۹۰- رابطه XAU با USD می باشد.

الف- هم جهت

ب- مستقیم

ج- بی تاثیر

د- خلاف جهت هم

