



نمونه سؤالات:

الگو سازی لباس با رایانه

کد استاندارد: ۱/۱/۴۴/۹۱-۷

معاونت پژوهش، برنامه ریزی و سنجش مهارت
دفتر سنجش مهارت و صلاحیت حرفه ای

۱- برنامه را بایستی درنصب کنیم.

الف - هر درایو دلخواه

ب - درایو پیش فرض برنامه (یعنی درایوی که ویندوز در آن نصب است C)

ج - درایو DVD RW Drive

د - درایو D

2- برای دریافت کدفعالسازی نرم افزار به کدامین اطلاعات زیر قطعا نیاز داریم؟

الف - فقط شماره سریال نرم افزار

ب - فقط شناسه رایانه

ج - شماره سریال نرم افزار و اطلاعات کاربر

د - شماره سریال و شناسه رایانه

3- کدفعالسازی برنامه براساس کدام بخش سخت افزاری رایانه ساخته می شود؟

الف - پردازنده رایانه (CPU)

ب - شناسه دیسک سخت رایانه (Hard Disk)

ج - شناسه حافظه تصادفی رایانه (RAM)

د - مشخصات کارت گرافیکی رایانه

4- نرم افزار بر روی چند سیستم قابلیت نصب دارد و چند بار می توان کد فعالسازی دریافت کرد؟

الف - بر روی هر تعداد سیستم می توان نصب کرد و کد فعالسازی گرفت.

ب - فقط بر روی یک سیستم می توان نصب کرد ولی می توان بارها کد فعالسازی دریافت کرد.

ج - با دریافت یک کد فعالسازی می توان بر روی هر سیستمی نصب کرد.

د - فقط بر روی یک سیستم می توان نصب کرد و فقط یک بار کد فعالسازی می توان دریافت نمود.

5- معادل انگلیسی الگوی پاترن بالاتنه جلو کدام یک است؟

الف- Front

ب- Back

ج- Bodice Sloper, Front

د- Bodice Sloper, Back

6- معادل انگلیسی الگوی آستین کدام یک است؟

الف- Sleeve

ب- Neck

ج- Facing

د- Extras

7- معادل انگلیسی الگوی سجاف کدام یک است؟

الف- Sleeve

ب- Collar

ج- Facing

د- Extras

8-ذخیره ی مدل انتخابی را بایستی.....

الف -در هر درایوی و ترجیحاً با حروف انگلیسی انجام داد.

ب -در هر درایوی می توان انجام داد.

ج -در درایو D انجام داد.

د -در درایو DVD RW Drive انجام داد.

9-جهت فراخوانی مدل های ذخیره شده باید.....

الف -از درایو C آن ها را بخوانیم.

ب -از منوی فایل گزینه ی باز کردن را انتخاب کنیم.

ج -از پنجره ی control panel استفاده کنیم.

د -از درایو DVD RW Drive آن ها را بخوانیم.

10-جهت ذخیره سازی مدل طراحی شده ، کدام مسیر صحیح می باشد؟

الف -منوی فایل (ذخیره سازی مدل)

ب -منوی عملیات (فراخوانی مدل

ج -منوی عملیات (ذخیره تمام مدل ها

د -دکمه ی (ctrl+s)

11-وارد کردن اطلاعات مربوط به اندازه گیری شخصی از کدام مسیر صحیح می باشد؟

الف -منوی اندازه گیری (اندازه گیری مرحله ای (مرحله ی ۱(مرحله ی ۲(مرحله ی ۳

ب -منوی اندازه گیری (اندازه گیری مرحله ای (مرحله ی ۱(مرحله ی ۲

ج -منوی اندازه گیری (اندازه گیری مرحله ای (مرحله ی ۱

د -منو فایل-جدید- اندازه های بدن- ثبت اندازه های شخصی

12-هنگام استفاده از دو سایز متفاوت از سایز های استاندارد بالاتنه و پایین تنه، کدام اندازه را بایستی کنترل کرد؟

الف -اندازه ی باسن بزرگ

ب -اندازه ی باسن کوچک

ج -اندازه ی دور کمر

د -اندازه ی آنتی ژامپ

13-از چه ابزاری برای تغییر گشادی در قسمت های مختلف الگو می توان استفاده کرد؟

الف -ابزار تنظیمات

ب -ابزار جابه جایی قطعه

ج -ابزار ساسون

د -اندازه گیری

14-چگونه می توان برای مدل، آستین اضافه کرد و یا مدل آستین را تغییر داد؟

الف -منو فایل-جدید-متد- آستین

ب -از کادر روی مچ مانکن

ج -از منوی برآزش

د -از منوی تنظیمات

15- ابزار برش پرنسسی در چه مدل‌هایی کاربرد دارد؟

الف -همه‌ی مدل‌ها

ب -مدل‌های زنانه

ج -مدل‌های شامل برش پرنسسی

د -مدل‌های با درجه گشادی زیاد

16- برای طراحی دامن ماهی از چه ابزاری استفاده می‌کنیم؟

الف -ابزار گره

ب -ابزار لبه عمودی

ج -ابزار دامن

د -ابزار تنظیمات

17- کدام گزینه در پنجره نمایش چیدمان مدل بر روی پارچه، قطعه الگوی انتخابی را ۱۸۰ درجه می‌چرخاند؟

الف- Folded

ب- Flat

ج- Copy

د -چرخش ۱۸۰ درجه

18- کاربرد اصلی ابزار چیدمان مدل چیست؟

الف -چاپ الگو

ب -چاپ با پلات

ج -پیش نمایش چاپ

د -محاسبه میزان پارچه ی مصرفی

19- از کدام منو می‌توان پهنای کمر شلوار را تغییر داد؟

الف -منوی تنظیمات

ب -منوی برازش شلوار

ج -منوی فاق

د -ابزار جابه جایی قطعه

20- الگوها را می‌توان چاپ کرد.

الف -فقط با خطوط برش(با زاپاس)

ب -فقط با خطوط الگو(بدون زاپاس)

ج -هم با خطوط برش و هم خطوط الگو

د -فقط سیاه و سفید

21- برای پلات گرفتن بایستی

الف -از الگو خروجی **dxf** بگیریم.

ب -الگو را با همان فرمت نرم افزار ذخیره کنیم.

ج -الگو را با فرمت **Doc** خروجی بگیریم.

د -الگو را ابتدا با فرمت نرم افزار ذخیره می‌کنیم و سپس پلات می‌گیریم.



22- برای چاپ با پلات حاشیه های دور صفحه در منوی تنظیمات صفحه چه اندازه بایستی باشد؟

الف - برحسب عرض کاغذ پلاتر

ب - بالا و پایین ، mm1 - چپ و راست mm 1

ج - بالا و پایین ، mm1 - چپ و راست صفر

د - بالا و پایین ، صفر - چپ و راست هم صفر

23- کدام یک از گزینه های زیر می تواند ابعاد الگو را به ما نشان بدهد؟

الف - اندازه های مرجع

ب - صفحه ی شطرنجی

ج - الگوی قالب

د - منو تبدیل تغییر اندازه

24- کدام یک از موارد زیر از زیر منوهای منوی نمایش است ؟

الف - صفحه نمایش شطرنجی

ب - خطوط مرجع

ج - اندازه های مرجع

د - خلاصه اطلاعات مدل

25- کدام یک از موارد زیر از ویژگی های منوی نمایش است ؟

الف - صفحه شطرنجی

ب - نمایش ابعاد مدل

ج - نمایش میزان گشادی ها

د - نمایش خطوط موازنه افقی

26- با انتخاب دو سایز متفاوت بالاتنه و پایین تنه از سایزهای استاندارد ، به کدام اندازه باید توجه کرد؟

الف - اندازه دور سینه

ب - اندازه دور باسن بزرگ

ج - اندازه دور کمر

د - اندازه دور باسن کوچک

27- مسیر ذخیره سازی الگوهای طراحی شده کدام یک است؟

الف - C:\Program Files\Jame_Bartar_Design_Software\Jamesw\file\tools

ب - C:\Program Files\Jame Bartar Design Software\Jamesw\file

ج - C:\Program Files\Jame_Bartar_Design_Software\Jamesw\file\patterndefaults

د - file-save

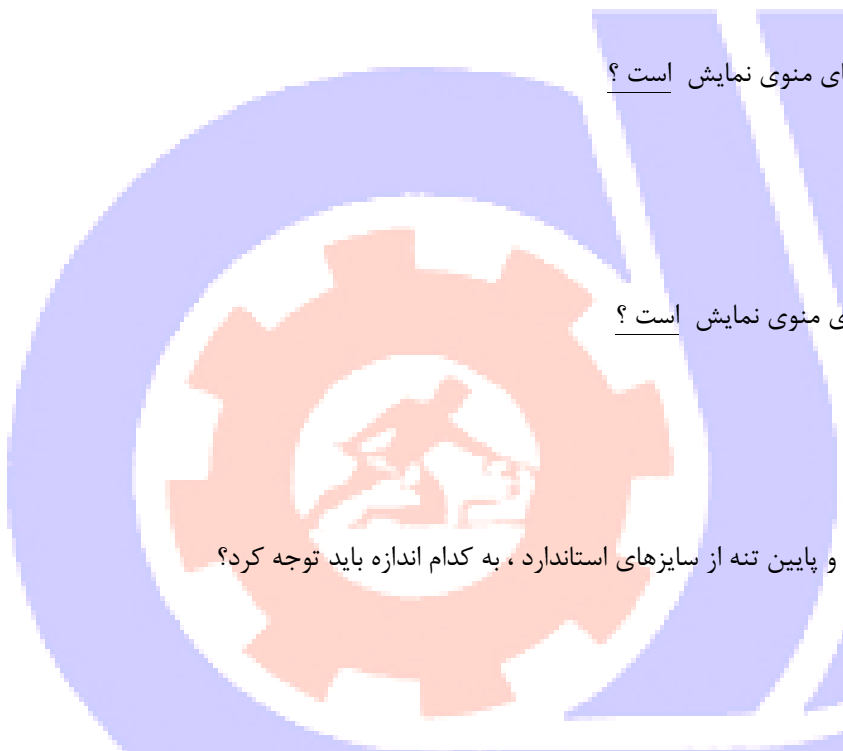
28- با چه فرمتی می توانیم الگوهای دیگر را به برنامه اضافه کنیم؟

الف - tiff

ب - jpg

ج - doc

د - gpd



29- الگوهای پیش فرض برنامه را در چه نرم افزارهایی بدون تبدیل فرمت می توان ویرایش کرد؟

الف - نمی شود فقط در خود نرم افزار

ب - در نرم افزارهای طراحی لباس

ج - در نرم افزارهای Office

د - در تمامی نرم افزارها

30- پیروی افراد از مجموعه دستورها و عادت های خوب و دوری جستن آنها از رفتارها و عادت های غلط که از بروز و اشاعه

بیماری ها جلوگیری می کند چه نام دارد ؟

الف - رعایت بهداشت فردی

ب - بهداشت فردی عمومی

ج - بهداشت محیط

د - هیچکدام

31- بهترین روش جمع آوری زباله در کارگاه کدام است ؟

الف - سوزاندن زباله

ب - استفاده از پلاستیک

ج - استفاده از کیسه های نایلونی تیره رنگ

د - استفاده از کیسه های نایلونی تیره رنگ با استحکام کافی

32- منبع اصلی نور طبیعی به ترتیب و روشنایی مصنوعی با استفاده از تأمین می شود .

الف - مهتاب - برق

ب - لامپ های الکتریکی - خورشید

ج - خورشید - لامپ های الکتریکی

د - برق - مهتاب

33- چرا در هنگام کار با کامپیوتر باید از فیلترهای مخصوص بر روی صفحه آن استفاده کرد ؟

الف - جهت شفاف بودن تصاویر

ب - حفاظت چشم ها از پرتوگیری بیش از حد

ج - تمیز ماندن صفحه کامپیوتر

د - هیچکدام

34- کدام گزینه از علائم ناشی از مسمومیت با کربن دی اکسید است ؟

الف - ناراحتی تنفسی و تنگی نفس

ب - بی هوشی که منجر به مرگ شود

ج - ضایعات چشمی

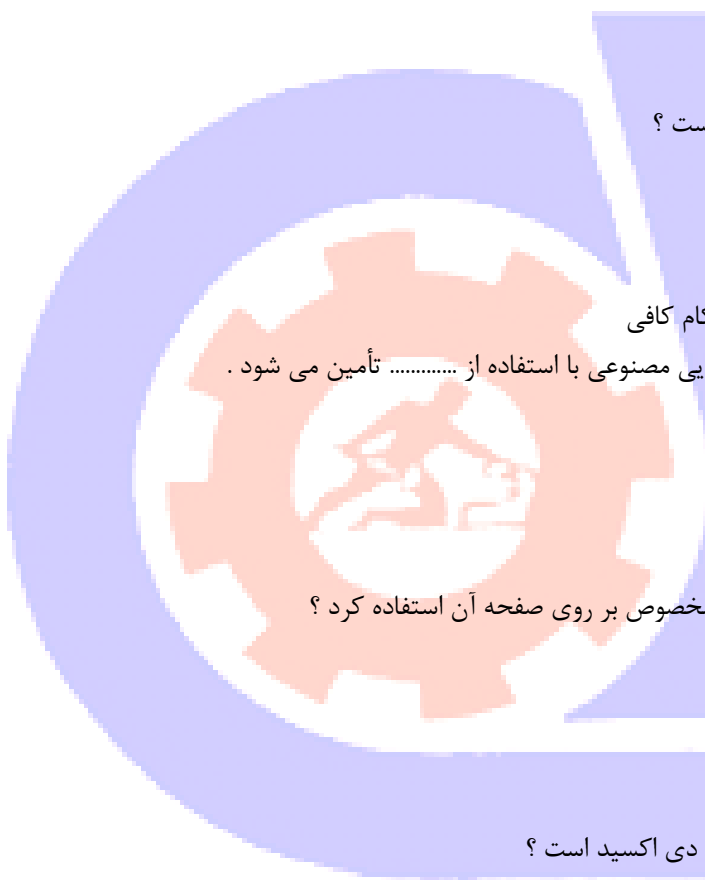
د - ناراحتی تنفسی و تنگی نفس - بی هوشی که منجر به مرگ شود

35- از راه های کنترل گرد و غبار کدام گزینه وسیله حفاظت فردی محسوب می شود ؟

الف - تهویه

ب - جداسازی

ج - ماسک تنفسی



د - پالایش هوا

36- کدام نوع از خستگی به فعالیت های عصبی و فکری مربوط می شود ؟

الف - خستگی ماهیچه ای

ب - خستگی روانی

ج - خستگی مزمن

د - خستگی عمومی

37- مفهوم « به دست آوردن و اندازه گیری ابعاد و اندازه بدن انسانهاست » به کدام گزینه مربوط می شود ؟

الف - کالری کار

ب - اندازه گیری

ج - آرگونومی

د - آنتروپومتری

38- با توجه به تعریف گزینه درست را مشخص کنید؟ (محلی که در آن تعدادی کارگر به منظور انجام یک فرآیند صنعتی که منجر به تولید یک فرآورده می شود مشغول کار هستند).

الف - کارخانه

ب - کارگاه

ج - آشپزخانه

د - هیچ کدام

39- کدام مورد از عوامل اصلی برای ایجاد حریق معمولی محسوب نمی شود ؟

الف - سرد کردن

ب - ماده سوختنی

ج - گرما

د - اکسیژن

40- اطلاعات از روی حافظه فلش به صورت..... حذف و وارد سطل بازیافت.....

الف - غیر مستقیم می شود

ب - مستقیم می شود

ج - غیر مستقیم نمی شود

د - مستقیم نمی شود

41- یک روش ساده برای جستجوی فایل یا پوشه استفاده از کادر.....در منویاست.

الف - start-search

ب - search-start

ج - all program-search

د - all program-start

42- بالاترین نوار در پنجره نوار نامیده می شود.

الف - عنوان

ب - ابزار

ج- افزار

د- وظیفه

۴۳- به طور کلی سیستم دارای سه بخش.....و.....می باشد.

الف- عملیاتی، ریاضی، خروجی

ب- ورودی، خروجی، منطقی

ج- ریاضی، منطقی، خروجی

د- ورودی، عملیاتی، خروجی

۴۴- نرم افزار جمینی چه نوع نرم افزاری می باشد؟

الف- گرافیکی

ب- الگو برش

ج- انیمیشن ساز

د- طراحی سه بعدی لباس

۴۵- فضای خالی در کامپیوتر برای نصب نرم افزار چه مقدار می باشد؟

الف- ۱ گیگ

ب- ۲ گیگ

ج- ۳ گیگ

د- ۴ گیگ

۴۶- برای شروع به کار در نرم افزار باید روی کدام کلید کلیک کرد؟

الف- شروع یک پروژه جدید

ب- شروع یک ذخیره سازی

ج- بستن پروژه

د- باز کردن پروژه

۴۷- نرم افزار جمینی چند بعدی است؟

الف- ۲ بعدی

ب- ۳ بعدی

ج- ۴ بعدی

د- ۱ بعدی

۴۸- برای رسم الگو صفحه را با سایز مورد نظر چگونه باز می کنیم؟

الف- window-open

ب- windows-new

ج- file-new

د- file-open

۴۹- برای ساماندهی فایلها بکار می رود؟

الف- آیکن

ب- فایل

ج- پرونده



د- پوشه

۵۰- برای شروع کار و کشیدن الگو روی کلید..... کلیک کنید که شکل آن بصورت می باشد

الف- ابزار متن-فلش

ب- ابزار رسم-پیکان

ج- ابزار متن-دایره

د- ابزار رسم-خط

۵۱- به ناحیه ای که نقاط و خطوط ناشی از عملیات های طراحی هندسی (ساخت الگو) در آن نمایش داده می شود، چه میگویند؟

الف- مونیتور

ب- دسکتاپ

ج- فضای کار

د- صفحه نمایش

۵۲- یک یا چند الگو همزمان می توانند با حرکت..... بچرخند با..... کلیک روی الگو نشانه های چرخش اطراف آن ظاهر می شود

الف- دست- دوبار

ب- دست- یکبار

ج- ماوس- یکبار

د- ماوس- دوبار

۵۳- در صورتی که حین جابه جایی یک نقطه کلید..... نگهدارید کلیه نقاط موجود خاصیت مغناطیسی پیدا کرده و روی هم قرار

می گیرند.

الف- alt

ب- ctrl

ج- shift

د- f4

۵۴- با درگ کردن ماوس روی محدوده ای از فایل ها و پوشه ها چه اتفاقی می افتد؟

الف- انتخاب گروهی می شود

ب- انتخاب تکی می شود

ج- حذف می شود

د- کپی می شود

۵۵- نام قطعه در کجا نمایش داده می شود؟

الف- روی نوار ابزار

ب- روی محور

ج- روی سایز

د- روی سند

۵۶- در هنگام چرخش تکه الگو گزینه **align piece horizontally** را انتخاب نمایید قطعه چرخنده در جهت.... می چرخد

الف- افقی

ب- عمودی

ج- اریب

د- سر و ته می شود

۵۷- عملکرد دکمه maximaz در نوار عنوان چه می باشد؟

الف- پنجره را به کوچکترین حالت ممکن در می آورد

ب- پنجره را به بزرگترین صورت ممکن و به صورت تمام صفحه در می آورد

ج- پنجره را به شکل دکمه در نوار وظیفه در می آورد

د- پنجره بسته می شود

۵۸- برای جدا کردن تکه بالا و پایین یقه انگلیسی چه باید کرد؟

الف- از ابزار cut استفاده می شود

ب- الگو را کپی کرده و خطوط اضافی را حذف می کنیم

ج- از ابزار tocurve استفاده می شود

د- الگو را انتخاب و کپی می کنیم

۵۹- برای رسم دقیق یک نقطه بر پایه نقاط هندسی، ارقام ایکس و ایگرگ باید باشد.

الف- اصغر

ب- یک

ج- ده

د- صد

۶۰- برای پاک کردن قسمت های رسم شده بعد از انتخاب آن از چه ابزاری میتوان استفاده کرد؟

الف- knife

ب- eraser

ج- zoom

د- shape tool

۶۱- برای جابجایی کادر وسط صفحه از ابزار و برای رسم خط از ابزار..... استفاده می شود.

الف- bezier-pen

ب- zoom-pan

ج- pen-pan

د- pan-pan

۶۲- برای نوشتن متن روی کادر از چه ابزاری استفاده می شود؟

الف- text tool

ب- pick tool

ج- pan tool

د- crop tool


۶۳- ابزار..... برای رسم کردن خط به کار میرود.

الف- freehand

ب- pen

ج- polygon

د- pick tool



۶۴- برای ایجاد یک اوزمان روی الگو به چند نقطه نیاز می باشد؟

الف- ۱ نقطه

ب- ۳ نقطه

ج- ۴ نقطه

د- ۵ نقطه

۶۵- بعد از قرینه کردن الگو برای برداشتن خط مرکزی بعد از انتخاب آنرا از کدام کلید استفاده می ود؟

الف- ابزار قرینه

ب- کلید حذف الگو قرینه شده

ج- کلید حذف محور تقارن مرکزی

د- ابزار تراز خط

۶۶- روی تکه الگویی که پیلای در آن به شکل.....باز شده استنمی توان اصلاحاتی انجام دادهمچنین قطعه ای که پیلای به شکل.....باز شده است نمی توان مجدد به پیلای بسته تبدیل نمود.

الف- افقی-عمودی

ب- عمودی-افقی

ج- دائم-موقت

د- موقت-دائم

۶۷- در برنامه طراحی الگو هنگام استفاده از کلید ایجاد پیلای به شکل اتوماتیک در محل های تا خوردن آنایجاد میشود.

الف- چرت

ب- تا

ج- کوک

د- خط چین

۶۸- کدام گزینه زیر جز روشهای ایجاد چرت (موازنه) نرم افزار طراحی الگو نمی باشد؟

الف- چرت فاصله ای

ب- چرت گوشه

ج- چرت تقاطع

د- چرت منحنی

۶۹- برای از بین بردن موازنه ایجاد شده روی الگو ابتدا روی آن کلیک کرده و از منوی سمت.....کلید.....را انتخاب کنید.

الف- چپ-حذف چرت

ب- راست-حذف چرت

ج- چپ-ویرایش چرت

د- راست-ویرایش چرت

۷۰- تغییر شکل منحنی از طریق نقطه و یا..... خط منحنی یا حرکت ماوس انجام می شود؟

الف- حرکت دادن-حذف

ب- حرکت دادن-جابجایی

ج- اضافه کردن به-حذف

د- اضافه کردن به-جابجایی

۷۱- بعد از قرینه کردن الگو برای برداشتن خط مرکزی بعد از انتخاب آن از کدام کلید استفاده می شود؟

الف- ابزار قرینه

ب- کلید حذف الگو قرینه شده

ج- کلید حذف محور تقارن

د- ابزار تراز خط

۷۲- هنگام درج متن روی الگو اگر همزمان کلید **ctrl** را نگه دارید محور متن خطی به شکل خواهد بود کدام گزینه صحیح نیست؟

الف- عمودی

ب- افقی

ج- رنگی

د- دارای زاویه

۷۳- برای کوچک نمایی کل مجموعه کار از کدام کلید میان بر استفاده می شود؟

الف- F2

ب- F3

ج- F4

د- F5

۷۴- چگونه میتوانیم قطعاتی که در هنگام کپی و فراخوانی در پروژه مخفی شده اند را نمایان می کند؟

الف- با انتخاب قطعه الگو

ب- با انتخاب قطعه الگو از انبار و انتخاب گزینه بررسی قطعه

ج- انتخاب گزینه بررسی قطعه

د- انتخاب گزینه فراخوانی قطعه الگو از انبار

۷۵- برای چاپ الگو و آماده کردن آن برای برش از چه دستگاهی استفاده می شود؟

الف- پلاتر

ب- چاپگر خانگی

ج- چاپ افست

د- چاپ سیلک

۷۶- نوع کاغذ مورد استفاده برای چاپ الگو... می باشد.

الف- کاغذ الگو

ب- کاغذ رول

ج- کاغذ گراف

د- کاغذ پوستی

۷۷- اگر کاغذ مورد استفاده در دستگاه چاپ الگو از نوع ورق باشد چه باید کرد؟

الف- سایز الگو را کوچکتر نمود

ب- سایز الگو را بزرگتر نمود

ج- طول و عرض آنرا به دستگاه بدهید

د- اندازه اریب آنرا به دستگاه بدهید

۷۸- کدام گزینه جز خصوصیات خط راستای الگو در نرم افزار جیمینی نمی باشد؟

- الف- الگو را می توان به وسیله خط راستا چرخاند
 - ب- برنامه برای چیدمان اتوماتیک به خط راستا نیاز دارد
 - ج- خط راستا نباید محیط الگو را قطع کند
 - د- خط راستا برای دیده شدن نباید بلند باشد
- ۷۹- کدام یک از موارد زیر را نمی توان با اندازه گیری سنجید؟

الف- اندازه گیری فاصله بین دو نقطه
ب- نقاط تعیین شده

ج- اندازه گیری زاویه و مساحت قطعات
د- انتقال یک نقطه روی خط درز

۸۰- کدام گزینه در استفاده از خطوط شطرنجی روی صفحه کار صحیح نمی باشد؟

الف- استفاده آسانتر با اندازه مشخص
ب- تراز قطعات الگو

ج- جلوگیری از رسم اشتباه الگو

د- قرار گیری قطعات الگو

۸۱- کدام یک از موارد زیر جز مجموعه سایز در برنامه طراحی الگو تعریف نشده است؟

الف- `grl-mudium-llams`

ب- ۴۰-۴۲-۴۶-۴۸

ج- `lx.m.l.s`

د- کوتاه، متوسط، بلند

۸۲- در صورتی که کاربر قصد سایز بندی کردن فقط چند سایز مورد نظر را دارد از کدام گزینه باید استفاده کرد؟

الف- اشکار کردن مجموعه سایز های استفاده نشده

ب- مخفی کردن سایز های استفاده نشده

ج- اشکار کردن مجموعه سایز های استفاده شده

د- مخفی کردن سایز های استفاده شده

۸۳- کدام روش جز سایز بندی نقاط نمی باشد؟

الف- سایر بندی هندسی

ب- سایر بندی

ج- | سایر بندی پارامتری

د- سایر بندی مشتق

۸۴- سایز بندی هندسی به کدامیک از گزینه های زیر اطلاق می شود؟

الف- متد ساخت الگو

ب- سایز بندی طبق خطوط مستقیم

ج- سایز بندی طبق خطوط منحنی

د- سایز بندی در اشکال مختلف

۸۵- برای سایز بندی الگوها به شیوه های دستی از کدام گزینه زیر استفاده می شود؟

الف- سایر بندی هندسی

ب- سایر بندی

ج- | سایر بندی پارامتری

د- سایر بندی مشتق

۸۶- هنگام ایجاد چرت فاصله ای در صورتیکه می خواهید دقیقاً روی یک نقطه چرت ایجاد کنید از کدام کلید استفاده می کنید؟

الف- shift

ب- Alt

ج- ctrl

د- Esc

۸۷- به کمک بلند یا کوتاه کردن قد الگو، در کدام گزینه نمی توان تغییرات ایجاد نمود؟

الف- بازی یقه

ب- قد آستین

ج- قد لباس

د- گشادی لباس

۸۸- برای ایجاد یک اوزمان روی الگو به چند نقطه نیاز است؟

الف- یک نقطه

ب- سه نقطه

ج- چهار نقطه

د- پنج نقطه

۸۹- برای اینکه بخواهیم دامن فون طراحی کنیم باید چه نوع دامنی را انتخاب و از کدام ابزار استفاده کنیم؟

الف- دامن اولیه، ابزار علامت موازنه

ب- دامن اولیه، ابزار پیلی

ج- دامن اولیه، ابزار اوزمان

د- الگوی دامن فون

۹۰- در الگوی بالاتنه پشت فاصله بین دو نقطه P2 و P3 را با کدام کلید ایجاد می کنیم؟

الف- ایجاد نقطه به فاصله های افقی مشخص

ب- ایجاد نقطه به فاصله های عمودی مشخص

ج- ایجاد نقطه به فاصله های عمودی و افقی مشخص

د- کلید فراخوانی عملیات

۹۱- در الگوی بالاتنه جلو نقش نقطه P5 چیست؟

الف- خط سینه

ب- خطهای مرکزی

ج- خط مرکزی پشت

د- خط مرکزی جلو

۹۲- در چه صورتی می توانیم اطمینان داشته باشیم که الگو کامل شده است؟

الف- با کلیک روی نقاط الگو

ب- ابزار رسم

ج- طراحی هندسی

د- نمایش قطعه الگو بصورت رنگی

۹۳- برای مدلسازی یقه دراپه کدام قسمت از الگو را تغییر می دهیم؟

الف- از خط مرکزی جلو روی خط سینه را برش زده اوزمان می دهیم

ب- خط مرکزی جلو از خط کارور تا حلقه را اوزمان می دهیم

ج- یک دوم هلال گردن جلو را تا نقطه زیر بغل برش داده اوزمان می دهیم

د- قسمت پنس سرشانه را برش زده بین آن پیلی می دهیم

۹۴- چنانچه بخواهیم لبه بلوز یا دامن در یک سمت از پهلو بلندتر از طرف دیگر طراحی کنیم چه عملیاتی را انجام می دهیم؟

الف- الگوی کامل ایجاد کرده نقطه خط مرکزی را جابجا می کنیم

ب- در یک چهارم الگو از قسمت پایین خط اریب می کشیم

ج- الگوی کامل ایجاد کرده نقطه خط پهلو از یک سمت را جابجا می کنیم

د- در یک چهارم الگو از قسمت پهلو خط اریب می کشیم

۹۵- ابزار و وسایل کمک رسانی به افراد حادثه دیده در کجا نگهداری می شود؟

الف- کمد

ب- کابینت آشپز خانه

ج- جعبه فلزی

د- جعبه کمکهای اولیه

۹۶- به منظور کاهش خستگی پاها چه باید کرد؟

الف- از زیر پای استفاده کرد

ب- صندلی را بلند تنظیم کرد

ج- از نور مناسب استفاده نمود

د- دستها را روی میز قائم کنید

۹۷- فاصله صندلی با میز کار باید طوری تنظیم شود که دست ها بهه صورتروی صفحه کلید قرار گیرند.

الف- عمود

ب- اریب

ج- قائم

د- افقی

۹۸- ارگونومی چیست؟

الف- رعایت مقررات در کار

ب- نو آوری

ج- تطبیق انسان با ماشین و ابزار

د- استفاده از کامپیوتر

۹۹- کدام گزینه جزء وسایل کمک های اولیه نیست؟

الف- نوار چسب قرقره ای

ب- آمونیاک

ج- نخ و سوزن

د- قیچی

۱۰۰- برای حرکت دادن راحت ماوس چه باید کرد؟

الف- ماوس را روی شیشه حرکت داد

ب- از ماوس پد استفاده شود

ج- ماوس را روی کاغذ حرکت داد

د- از مونیو پد استفاده شود

